

國立中科實驗高級中學 113 學年度第 1 次教師甄選

2024. 7. 24 (三)

凱米颶風

雙語部-數學科專業知能試題

~ 7. 25 (四) Ru

一、填充題：共 16 題，每題 5 分

寸絲

1. 若 $\triangle ABC$ 三邊長均為整數，且各邊長均不大於 100，則有 87125 個不全等的三角形。好難 ~

Step 1: (A11) Step 2: (不合)

3 異 C_3^{100} w.l.o.g. 設 $a \leq b \leq c$

恰 2 同 $C_2^{100} \cdot 2$ 無合構成 \triangle

3 同 100 令 $n = a + b$

和 171700 而 $a + b = n$ 的組合表為 $\left[\frac{n}{2} \right]$

$\left[\frac{n}{2} \right]$	$a+b$	C	
1	2	2-100	1x99
	3	3-100	1x98
2	4	4-100	2x97
	5	5-100	2x96
			...
49	98	98-100	49x3
	99	99-100	49x2
50	100	100	50x1

$$1 \times (197) + 2 \times (193) + \dots + 49 \times 5$$

$$= \sum_{k=1}^{49} k (-4k + 201) = (197 + (k-1)(-4))$$

$$= -4 \cdot \frac{49 \cdot 50 \cdot 99}{6} + 201 \cdot \frac{49 \cdot 50}{2}$$

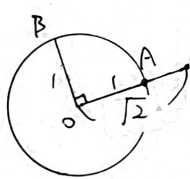
$$\Rightarrow 171700 - (-161700 + 246225) - 50$$

$$= 87125$$

2. 設平面上有不共線的 O, A, B 相異三點，已知 $\vec{OA} \perp \vec{OB}$ 、 $|\vec{OA}| = |\vec{OB}| = 1$ ，且

$\vec{OP} = (\cos \theta - \sin \theta) \vec{OA} + (\cos \theta + \sin \theta) \vec{OB}$ ， $0 \leq \theta \leq 2\pi$ ，則 P 點在平面上所圍成的區域面積為 2π 。

$$\cos \theta - \sin \theta, \cos \theta + \sin \theta \text{ 均 } \leq \sqrt{2}$$



$$P \in \Gamma: x^2 + y^2 = (\sqrt{2})^2$$

$$\Rightarrow \pi (\sqrt{2})^2 = 2\pi$$

3. $\triangle ABC$ 中，若滿足 $\frac{\sin A + \sqrt{3} \cos A}{\cos A - \sqrt{3} \sin A} = \tan \frac{7\pi}{12}$ ，則 $\sin 2B + 2 \cos C$ 的最大值為 $\frac{3}{2}$ 。

$$\tan(A + 60^\circ) = \tan 105^\circ$$

$$\Rightarrow \angle A = 45^\circ$$

$$\Rightarrow \angle C = 135^\circ - \angle B$$

$$2 \sin \beta \cos \beta + 2 \left(-\frac{1}{\sqrt{2}} \cos \beta + \frac{1}{\sqrt{2}} \sin \beta \right) \quad \text{令 } s - c = k$$

$$= \sqrt{2} (s - c) + 2sc$$

$$= 1 - k^2 + \sqrt{2}k \xrightarrow{\text{微分}} -2k + \sqrt{2} = 0$$

$$k = \frac{1}{\sqrt{2}} \text{ 代入 } \Rightarrow \left| -\frac{1}{\sqrt{2}} + 1 \right| = \frac{3}{2}$$

4. 求值： $\sum_{n=1}^{25} \left(\frac{1}{1 \times 2 + 2 \times 3 + 3 \times 4 + 4 \times 5 + \dots + n(n+1)} \right) = \frac{175}{234}$ 。

$$Q_n = \sum_{k=1}^n k(k+1) \quad \frac{1}{Q_n} = \frac{3}{2} \left(\frac{1}{h(h+1)} - \frac{1}{(h+1)(h+2)} \right)$$

$$= \sum_{k=1}^n \frac{k(k+1)(k+2) - (k-1)k(k+1)}{3} \quad \Rightarrow \frac{3}{2} \left(\frac{1 \times 3 \times 2}{1 \times 2 \times 3 \times 2} - \frac{1}{2 \times 2} \right)$$

$$= \frac{h(h+1)(h+2)}{3} \quad (113 \text{ 竹中}) \quad = \frac{3}{2} \cdot \frac{350 \cdot 175}{26 \cdot 279} = \frac{175}{234}$$

5. 已知 x 為實數，則 $f(x) = \frac{4x^2 - 24x + 121}{\sqrt{x^2 - 6x + 10}}$ 的最小值為 36。

令 $t = x^2 - 6x + 10$

$$\because D = 36 - 40 < 0$$

$$\therefore t \geq 10$$

$$\frac{4t^2 + 81}{t} = 4t + \frac{81}{t}$$

$$\geq 2 \cdot 2 \cdot 9 = 36$$

6. 已知空間中兩直線 $L_1: 2x = 4y - 4 = 2z - 3$ 、 $L_2: \frac{3}{2}x + 3 = 6 - y = 12 - 3z$ 同時落在一平面 E 上，若

平面 E 外有一點 $A(2, -\frac{1}{2}, -\frac{3}{2})$ ，其中點 A 關於平面 E 的投影點為點 H ，且點 H 關於兩直線

L_1 、 L_2 的投影點分別為 M 、 N ，則線段 $\overline{MN} = \frac{10\sqrt{70}}{21}$ 。

$$\vec{L}_1 \parallel \left(\frac{1}{2}, \frac{1}{4}, \frac{1}{2} \right) \parallel (2, 1, 2)$$

$$\vec{L}_2 \parallel \left(\frac{2}{3}, -1, -\frac{1}{3} \right) \parallel (2, -3, -1)$$

$$L_1: \frac{x}{2} = \frac{y-1}{1} = \frac{z-\frac{3}{2}}{2} \quad \text{令 } t$$

$$L_2: \frac{x+2}{2} = \frac{y-6}{-3} = \frac{z-4}{-1}$$

設交點 $P(2t, t+1, 2t+\frac{3}{2})$

$$\frac{2t+2}{2} = \frac{t-5}{-3} = \frac{2t-\frac{5}{2}}{-1}$$

$$\Rightarrow t = \frac{1}{2} \Rightarrow P(1, \frac{3}{2}, \frac{5}{2})$$

$$\begin{pmatrix} 1 & 2 & 2 & 1 & 2 \\ 2 & -3 & -1 & 2 & -3 & -1 \\ 5 & 6 & -8 & & & \end{pmatrix}$$

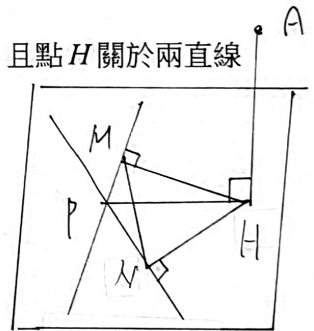
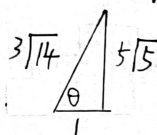
$$\Rightarrow E: 5x + 6y - 8z + 6 = 0$$

$$\overline{AH} = d(A, E) = \frac{25}{5\sqrt{5}} = \sqrt{5}$$

$$\overline{AP}^2 = 1 + 4 + 16 = 21$$

$$\Rightarrow \overline{PH} = \sqrt{21 - 5} = 4 = 2\sqrt{2}$$

$$|\cos \theta| = \frac{|4 - 3 - 2|}{3\sqrt{14}} = \frac{1}{3\sqrt{14}}$$



$$\frac{\overline{MN}}{\sin \theta} = 2\sqrt{2}$$

$$\Rightarrow \overline{MN} = 4 \cdot \frac{5\sqrt{5}}{3\sqrt{14}}$$

$$= \frac{10\sqrt{70}}{21}$$