

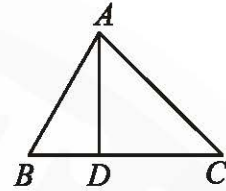
大學入學 113 年 分科測驗 數學甲試題

俞克斌老師編寫

第壹部分：選擇(填)題 (佔 76 分)

一、單選題 (佔 18 分)

1. 如右圖所示，有一 $\triangle ABC$ ，已知 \overline{BC} 邊上的高 $\overline{AD} = 12$ ，且 $\tan \angle B = \frac{3}{2}$ 、 $\tan \angle C = \frac{2}{3}$ 。試問 \overline{BC} 的長度為何？



- (1) 20 (2) 21 (3) 24 (4) 25 (5) 26

【113 分科測驗數甲】

答：(5)

解： $\tan B = \frac{3}{2}$ ， $\tan C = \frac{2}{3}$ ， $\overline{AD} = 12 \Rightarrow \overline{BD} = 8$ ， $\overline{CD} = 18 \Rightarrow \overline{BC} = 26$

2. 坐標平面上，橢圓 Γ 的方程式為 $\frac{x^2}{a^2} + \frac{y^2}{6^2} = 1$ (其中 a 為正實數)。若將 Γ 以原點 O 為中心，沿 x 軸方向伸縮為 2 倍、沿 y 軸方向伸縮為 3 倍後，所得到的新圖形會通過點 $(18, 0)$ 。試問下列哪一個選項是 Γ 的焦點？


- (1) $(0, 3\sqrt{3})$ (2) $(-3\sqrt{5}, 0)$ (3) $(0, 6\sqrt{13})$ (4) $(-3\sqrt{13}, 0)$ (5) $(9, 0)$

【113 分科測驗數甲】

答：(2)

解： $\left(\frac{x}{2a}\right)^2 + \left(\frac{y}{18}\right)^2 = 1$ 過 $(18, 0) \Rightarrow a = 9$ ， $\Gamma: \frac{x^2}{9^2} + \frac{y^2}{6^2} = 1$
 $\Rightarrow a = 9$ ， $b = 6 \Rightarrow c = 3\sqrt{5}$ $\therefore \Gamma$ 焦點 $(\pm 3\sqrt{5}, 0)$

3. 想在 5×5 的棋盤上擺放 4 個相同的西洋棋的城堡棋子。由於城堡會將同一行或是同一列的棋子吃掉，故擺放時規定每一行與每一列最多只能擺放一個城堡。在第一列的第一、三、五格 (如圖示畫叉的格子) 不擺放的情況下，試問共有多少種擺放方式？



- (1) 216 (2) 240 (3) 288 (4) 312 (5) 360

【113 分科測驗數甲】

答：(4)

解： $\underbrace{5 \times 4 \times 3 \times 2}_{\text{第一列不排入}} + \underbrace{(2) \times C_3^4 \times 4 \times 3 \times 2}_{\text{第一列排入一個}} = 120 + 8 \times 24 = 120 + 192 = 312$

二、多選題 (佔 40 分)

4. 一遊戲廠商將舉辦抽獎活動，廠商公告每次抽獎需使用掉一個代幣，且每次抽獎的中獎機率皆為 $\frac{1}{10}$ 。某甲決定先存若干個代幣，並在活動開始後進行抽獎，直到用完所有代幣才

停止。試選出正確的選項。

- (1) 某甲中獎一次所需要抽獎次數的期望值為 10
- (2) 某甲抽獎兩次就中獎一次以上的機率為 0.2
- (3) 某甲抽獎 10 次都沒中獎的機率小於抽獎 1 次就中獎的機率
- (4) 某甲至少要存 22 個代幣，才能保證中獎的機率大於 0.9
- (5) 某甲只要存足夠多的代幣，就可以保證中獎的機率為 1

【113 分科測驗數甲】

答：(1)(4)

解：(1) 期望值 $\frac{1}{p} = 10$

$$(2) 1 - \left(\frac{9}{10}\right)^2 = 0.19 < 0.2$$

$$(3) \left(\frac{9}{10}\right)^{10} \approx 0.348 > \frac{1}{10}$$

$$(4) 1 - \left(\frac{9}{10}\right)^n > 0.9 \Rightarrow \left(\frac{10}{9}\right)^n > 10 \Rightarrow n(\log 10 - \log 9) > \log 10$$

$$\Rightarrow n > \frac{1}{1 - 0.9542} \approx 21.8 \dots \Rightarrow n \geq 22$$

$$(5) 1 - \left(\frac{9}{10}\right)^n \xrightarrow{n \in \mathbb{N}} < 1$$

5. 設 $f(x)$ 為三次實係數多項式。已知 $f(-2-3i)=0$ (其中 $i=\sqrt{-1}$)，

且 $f(x)$ 除以 x^2+x-2 的餘式為 18。試選出正確的選項。

- (1) $f(2+3i)=0$
- (2) $f(-2)=18$
- (3) $f(x)$ 的三次項係數為負
- (4) $f(x)=0$ 恰有一正實根
- (5) $y=f(x)$ 圖形的對稱中心在第一象限

【113 分科測驗數甲】

答：(2)(3)(4)

解： $x = -2-3i \Rightarrow (x+2)^2 = (-3i)^2 \Rightarrow x^2 + 4x + 4 = -9 \Rightarrow x^2 + 4x + 13 = 0$

$$f(x) = (x^2 + 4x + 13)(ax + b) = (x^2 + x - 2)Q(x) + 18$$

$$\left. \begin{aligned} f(1) &= (18)(a+b) = 18 \Rightarrow a+b=1 \\ f(-2) &= (9)(-2a+b) = 18 \Rightarrow -2a+b=2 \end{aligned} \right\} a = -\frac{1}{3}, b = \frac{4}{3}$$

$$\therefore f(x) = (x^2 + 4x + 13) \left(-\frac{1}{3}x + \frac{4}{3} \right) = 0, \text{ 三根為 } 4, 2 \pm 3i$$

$$= -\frac{1}{3}x^3 + x + \frac{52}{3}, \text{ 對稱中心 } \left(0, \frac{52}{3} \right)$$

6. 坐標空間中，考慮滿足內積 $\vec{u} \cdot \vec{v} = \sqrt{15}$ 與外積 $\vec{u} \times \vec{v} = (-1, 0, 3)$ 的兩向量 \vec{u} 、 \vec{v} 。試選出正確的選項。

(1) \vec{u} 與 \vec{v} 的夾角 θ (其中 $0 \leq \theta \leq \pi$, π 為圓周率) 大於 $\frac{\pi}{4}$

(2) \vec{u} 可能為 $(1, 0, -1)$

(3) $|\vec{u}| + |\vec{v}| \geq 2\sqrt{5}$

(4) 若已知 \vec{v} ，則 \vec{u} 可以被唯一決定

(5) 若已知 $|\vec{u}| + |\vec{v}|$ ，則 $|\vec{v}|$ 可以被唯一決定

【113 分科測驗數甲】

答：(3)(4)

解：(1) $\vec{u} \cdot \vec{v} = |\vec{u}| |\vec{v}| \cos \theta = \sqrt{15}$
 $|\vec{u} \times \vec{v}| = |\vec{u}| |\vec{v}| \sin \theta = \sqrt{10}$ $\left. \begin{array}{l} \cos \theta = \frac{\sqrt{15}}{|\vec{u}| |\vec{v}|} \\ \sin \theta = \frac{\sqrt{10}}{|\vec{u}| |\vec{v}|} \end{array} \right\} \tan \theta = \sqrt{\frac{2}{3}} < 1, |\vec{u}| |\vec{v}| = 5$

(2) $(1, 0, -1)$ 與 $(-1, 0, 3)$ 不垂直

(3) $|\vec{u}| + |\vec{v}| \geq 2\sqrt{|\vec{u}| |\vec{v}|} = 2\sqrt{5}$

(4) 已知 \vec{v} 、 $\vec{u} \cdot \vec{v} = \sqrt{15}$ 、 $\vec{u} \times \vec{v} = (-1, 0, 3)$ ，則知 \vec{u}

(5) 可能兩解

7. 坐標平面上，考慮兩函數 $f(x) = x^5 - 5x^3 + 5x^2 + 5$ 與 $g(x) = \sin\left(\frac{\pi x}{3} + \frac{\pi}{2}\right)$ 的函數圖形 (其中 π 為圓周率)。試選出正確的選項。

(1) $f'(1) = 0$

(2) $y = f(x)$ 在閉區間 $[0, 2]$ 為遞增

(3) $y = f(x)$ 在閉區間 $[0, 2]$ 為凹向上

(4) 對任意實數 x ， $g(x + 6\pi) = g(x)$

(5) $y = f(x)$ 與 $y = g(x)$ 在閉區間 $[3, 4]$ 皆為遞增

【113 分科測驗數甲】

答：(1)(2)(5)

解： $f'(x) = 5x^4 - 15x^2 + 10x = 5x(x-1)^2(x+2)$ ， $f'(1) = 0$
 故在區間 $(-\infty, -2) \cup (0, \infty)$ 內為遞增，在區間 $(-2, 0)$ 內為遞減

$f''(x) = 20x^3 - 30x + 10 = 10(x-1)(2x^2 + 2x - 1)$

故在區間 $\left(\frac{-\sqrt{3}-1}{2}, \frac{\sqrt{3}-1}{2}\right) \cup (1, \infty)$ 內為凹口向上，

在區間 $\left(-\infty, \frac{-\sqrt{3}-1}{2}\right) \cup \left(\frac{\sqrt{3}-1}{2}, 1\right)$ 內為凹口向下

$g(x)$ 週期 $2\pi \times \frac{3}{\pi} = 6$ ，且在閉區間 $[3, 4]$ 皆為遞增

8. 設 z 為非零複數，且設 $\alpha = |z|$ 、 β 為 z 的輻角，其中 $0 \leq \beta < 2\pi$ (其中 π 為圓周率)。

對任一正整數 n ，設實數 x_n 與 y_n 分別為 z^n 的實部與虛部。試選出正確選項。

(1) 若 $\alpha = 1$ 且 $\beta = \frac{3\pi}{7}$ ，則 $x_{10} = x_3$

(2) 若 $y_3 = 0$ ，則 $y_6 = 0$

(3)若 $x_3 = 1$ ，則 $x_6 = 1$

(4)若數列 $\langle y_n \rangle$ 收斂，則 $\alpha \leq 1$

(5)若數列 $\langle x_n \rangle$ 收斂，則數列 $\langle y_n \rangle$ 也收斂

【113 分科測驗數甲】

答：(2)(5)

解：(1) $z = \cos \frac{3\pi}{7} + i \sin \frac{3\pi}{7} \Rightarrow x_{10} = \cos \frac{30\pi}{7} \neq x_3 = \cos \frac{9\pi}{7}$

(2) $y_3 = \sin 3\beta = 0 \Rightarrow y_6 = \sin 6\beta = 0$

(3) $x_3 = \cos 3 = 1 \Rightarrow x_6 = \cos 6\beta = 1$

(4) $\langle y_n \rangle$ 收斂 $\Rightarrow \alpha |\sin \beta| < 1 \Rightarrow \alpha$ 不一定 ≤ 1

(5) 正確： $\langle x_n \rangle$ 收斂 $\Rightarrow \alpha |\cos \beta| < 1 \Rightarrow \alpha |\sin \beta| < 1 \Rightarrow \langle y_n \rangle$ 收斂

三、選填題 (佔 18 分)

9. 設 a, b, c, d 為實數。已知兩聯立方程組 $\begin{cases} ax+by=2 \\ cx+dy=1 \end{cases}$ 、 $\begin{cases} ax+by=-1 \\ cx+dy=-1 \end{cases}$ 的增廣矩陣經過相同的列運算後，分別得到 $\left[\begin{array}{cc|c} 1 & -1 & 3 \\ 0 & 1 & 2 \end{array} \right]$ 、 $\left[\begin{array}{cc|c} 1 & -1 & 2 \\ 0 & 1 & -1 \end{array} \right]$ ，則聯立方程組 $\begin{cases} ax+by=0 \\ cx+dy=1 \end{cases}$ 的解為 $x = \underline{\hspace{2cm}}$ ， $y = \underline{\hspace{2cm}}$ 。

【113 分科測驗數甲】

答：(-7, 0)

解：前解： $(x_1, y_1) = (5, 2)$ ，後解： $(x_2, y_2) = (1, -1)$

$$\Rightarrow \begin{bmatrix} a & b \\ c & d \end{bmatrix} \begin{bmatrix} 5 & 1 \\ 2 & -1 \end{bmatrix} = \begin{bmatrix} 2 & -1 \\ 1 & -1 \end{bmatrix}$$

$$\Rightarrow \begin{bmatrix} a & b \\ c & d \end{bmatrix} = \begin{bmatrix} 2 & -1 \\ 1 & -1 \end{bmatrix} \begin{bmatrix} -1 & -1 \\ -2 & 5 \end{bmatrix} \times \frac{1}{-7} = \begin{bmatrix} 0 & 1 \\ \frac{1}{-7} & \frac{6}{7} \end{bmatrix}$$

$$\text{則 } \begin{bmatrix} a & b \\ c & d \end{bmatrix} \begin{bmatrix} x \\ y \end{bmatrix} = \begin{bmatrix} 0 \\ 1 \end{bmatrix} \Rightarrow \begin{bmatrix} x \\ y \end{bmatrix} = \begin{bmatrix} \frac{6}{7} & -1 \\ \frac{1}{7} & 0 \end{bmatrix} \begin{bmatrix} 0 \\ 1 \end{bmatrix} \times 7 = \begin{bmatrix} -7 \\ 0 \end{bmatrix}$$

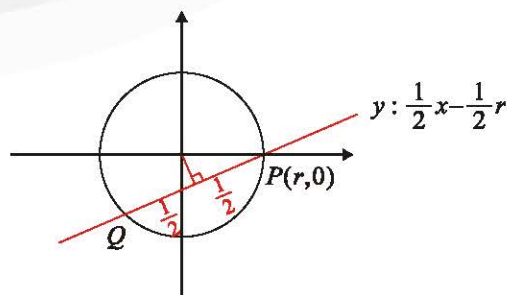
10. 坐標平面上，設 Γ 為以原點為圓心的圓， P 為 Γ 與 x 軸的其中一個交點。已知通過 P 點且斜率為 $\frac{1}{2}$ 的直線交 Γ 於另一點 Q ，且 $\overline{PQ} = 1$ ，則 Γ 的半徑為 $\underline{\hspace{2cm}}$ 。(化為最簡根式)

【113 分科測驗數甲】

答： $\frac{\sqrt{5}}{4}$

解： $d((0,0), x-2y-r=0) = \sqrt{r^2 - \left(\frac{1}{2}\right)^2}$

$$\Rightarrow \frac{|-r|}{\sqrt{5}} = \sqrt{r^2 - \frac{1}{4}} \Rightarrow r = \frac{\sqrt{5}}{4}$$



11. 設實數 a_1, a_2, \dots, a_9 是公差為 2 的等差數列，其中 $a_1 \neq 0$ 且 $a_3 > 0$ 。若 $\log_2 a_3, \log_2 b, \log_2 a_9$ 三數依序也成等差數列，其中 b 為 a_4, a_5, a_6, a_7, a_8 其中一數，則 $a_9 = \underline{\hspace{2cm}}$ 。(化為最簡分數) 【113 分科測驗數甲】

答： $\frac{25}{2}$

解： $\log_2 a_3 + \log_2 a_9 = 2\log_2 b \Rightarrow (a_1 + 4)(a_1 + 16) = (a_1 + 2n)^2$
 $\Rightarrow 20a_1 + 64 = 4na_1 + 4n^2 \xrightarrow{3 \leq n \leq 7 \text{ 且 } a_3 = a_1 + 4 > 0} n = 3, a_1 = -\frac{7}{2}$

則 $a_9 = a_1 + 8 \times 2 = \frac{25}{2}$

第貳部分：混合題或非選擇題（佔 24 分）

12-14 題為題組

坐標空間中，考慮三個平面 $E_1: x+y+z=7$ 、 $E_2: x-y+z=3$ 、 $E_3: x-y-z=-5$ 。令 E_1 與 E_2 相交的直線為 L_3 ； E_2 與 E_3 相交的直線為 L_1 ； E_3 與 E_1 相交的直線為 L_2 。根據上述，試回答下列問題。

12. 已知三直線 L_1 、 L_2 、 L_3 有共同交點，試求此共同交點 P 的坐標。 【113 分科測驗數甲】

答： $P(1, 2, 4)$

解： $\begin{cases} x+y+z=7 \\ x-y+z=3 \\ x-y-z=-5 \end{cases} \Rightarrow \begin{cases} x=1 \\ y=2 \\ z=4 \end{cases}$

13. 試說明 L_1 、 L_2 、 L_3 中，任兩直線所夾的銳角皆為 60° 。

(註：令 L_1 與 L_2 所夾的銳角為 α ， L_2 與 L_3 所夾的銳角為 β ， L_3 與 L_1 所夾的銳角為 γ)

【113 分科測驗數甲】

解： $L_1: \begin{cases} x-y+z=3 \\ x-y-z=-5 \end{cases} \Rightarrow \begin{cases} x=t \\ y=t+1 \\ z=4 \end{cases}$ ，故 $\vec{L}_1 = (1, 1, 0)$

$L_2: \begin{cases} x-y-z=-5 \\ x+y+z=7 \end{cases} \Rightarrow \begin{cases} x=1 \\ y=s \\ z=6-s \end{cases}$ ，故 $\vec{L}_2 = (0, 1, -1)$

$L_3: \begin{cases} x+y+z=7 \\ x-y+z=3 \end{cases} \Rightarrow \begin{cases} x=m \\ y=2 \\ z=5-m \end{cases}$ ，故 $\vec{L}_3 = (1, 0, -1)$

$\cos \alpha = \left| \frac{(1, 1, 0) \cdot (0, 1, -1)}{\sqrt{2} \sqrt{2}} \right| = \frac{1}{2} \Rightarrow \alpha = 60^\circ$

$$\cos \beta = \left| \frac{(0, 1, -1) \cdot (1, 0, -1)}{\sqrt{2} \sqrt{2}} \right| = \frac{1}{2} \Rightarrow \beta = 60^\circ$$

$$\cos \gamma = \left| \frac{(1, 1, 0) \cdot (1, 0, -1)}{\sqrt{2} \sqrt{2}} \right| = \frac{1}{2} \Rightarrow \gamma = 60^\circ$$

14. 若坐標空間中第四個平面 E_4 與 E_1 、 E_2 、 E_3 圍出一個邊長為 $6\sqrt{2}$ 的正四面體，試求出 E_4 的方程式。（寫成 $x+ay+bz=c$ 的形式）

【113 分科測驗數甲】

答： $x+y-z=11$ 、 $x+y-z=-13$

解： $\vec{E}_4 \parallel \vec{L}_1 + \vec{L}_2 + \vec{L}_3 = (2, 2, -2) \parallel (1, 1, -1)$

邊長為 $6\sqrt{2}$ ，則高為 $\frac{\sqrt{6}}{3} \times 6\sqrt{2} = 4\sqrt{3}$

且 $d((1, 2, 4), x+y-z=k) = 2\sqrt{3} \Rightarrow \frac{|k+1|}{\sqrt{3}} = 4\sqrt{3} \Rightarrow k=11$ 或 -13

15-17 題為題組

坐標平面上，設 Γ 為三次函數 $f(x) = x^3 - 9x^2 + 15x - 4$ 的函數圖形。根據上述，試回答下列問題。

15. 試問下列何者為 $f(x)$ 的導函數？（單選題）

- (1) $x^2 - 9x + 15$ (2) $3x^3 - 18x^2 + 15x - 4$ (3) $3x^3 - 18x^2 + 15x$
 (4) $3x^2 - 18x + 15$ (5) $x^2 - 18x + 15$

【113 分科測驗數甲】

答：(4)

解： $f(x) = x^3 - 9x^2 + 15x - 4 \Rightarrow f'(x) = 3x^2 - 18x + 15$

16. 試說明 $P(1, 3)$ 為 Γ 上之一點，並求 Γ 在 P 點的切線 L 的方程式。

【113 分科測驗數甲】

答： $y=3$

解：因為 $f(1) = 1 - 9 + 15 - 4 = 3 \Rightarrow P(1, 3) \in y = f(x)$
 又 $f'(1) = 0 \Rightarrow$ 切線： $y=3$

17. 承 16，試求 Γ 和 L 所圍成有界區域的面積。

【113 分科測驗數甲】

答： 108

解： $y=3$ 與 $y = x^3 - 9x^2 + 15x - 4$ 相交於點 $(1, 3)$ 、 $(7, 3)$

$$\begin{aligned} \text{所求} &= \int_1^7 \left[3 - (x^3 - 9x^2 + 15x - 4) \right] dx = \int_1^7 \left[-x^3 + 9x^2 - 15x + 7 \right] dx \\ &= \left[-\frac{1}{4}x^4 + 3x^3 - \frac{15}{2}x^2 + 7x + C \right] \Big|_1^7 = 108 \end{aligned}$$