

說明：請用黑色或藍色原子筆書寫

一、 填充題：每題 8 分，共 88 分。分數或根式須以最簡形式回答，否則不予計分。

1. 已知 $f(x) = x^3 - 5x^2 + bx + c$ ，若 $f(x) = 0$ 的三根為 α, β, γ ，且 $f(-1) = 20$ ，則

$\rightarrow 26$

$$\begin{vmatrix} 1+\alpha & 1 & 1 \\ 1 & 1+\beta & 1 \\ 1 & 1 & 1+\gamma \end{vmatrix} = \begin{cases} \text{令 } f(x) = (x-\alpha)(x-\beta)(x-\gamma) \\ -f(-1) + 2 - (\alpha+1+\beta+1+\gamma+1) \\ = -20 + 2 - 8 = -26 \end{cases}$$

觀察元素

元素對素

1 $\rightarrow C_0^2$

2 $\rightarrow C_1^2$

3 $\rightarrow C_2^2$

$C_0^2 + C_1^2 + C_2^2 = (1+2+8) \cdot 2^1 = 9 \cdot 2 = 18$

2. 設 $\frac{1}{2a} + \frac{1}{3b} = 30$ ，其中 a, b 為正數，求 $3\log_6 a + 2\log_6 b$ 的最大值

$\rightarrow 10$

$\rightarrow 26$

$$30 = \frac{1}{6a} + \frac{1}{6a} + \frac{1}{6a} + \frac{1}{6b} + \frac{1}{6b} \geq \frac{5}{6} \left(\frac{1}{a^3 b^2} \right)^{\frac{1}{5}} \Rightarrow 6^{\frac{1}{5}} \geq (a^3 b^2)^{-\frac{1}{5}} \Rightarrow 10 \geq \log_6 (a^3 b^2)^{-1}$$

3. 假設 A 為非空的有限集合，規定 $S(A)$ 表示 A 中所有元素的和；例如： $S(\{1,3,7\}) = 1+3+7=11$ 。

4608 考慮集合 $\{1,2,3,4,5,6,7,8\}$ 中的每個非空子集 A ，試求所有這樣 $S(A)$ 的總和 _____。

TRML 2013 個人賽

4. 設 z 為複數，且 $|z|=1$ ，已知 $|z^2 - z + 1|$ 的最大值為 M ，最小值為 m ，求 $M+m =$ _____。

$\rightarrow 3$

$\rightarrow 26$

$$\text{令 } z = e^{i\theta}, \left| z + \frac{1}{z} - 1 \right| = |2\cos\theta - 1| \in [0, 3]$$

5. 113 年永春盃網球排名賽 18 歲組單打賽共 32 名選手參賽，採單淘汰制，每名選手勢均力敵。若進入 16 強可得 3 分的積分，進入 8 強可得 5 分的積分，進入 4 強可得 10 分的積分，進入冠亞軍賽可得 15 分的積分，得冠軍者可得 20 分的積分，試問每位選手拿到的積分之期望值

$\rightarrow 99$

$\rightarrow 16$

$\rightarrow 32$

$$\text{為 } \frac{1}{32} (16 \cdot 3 + 8 \cdot 5 + 4 \cdot 10 + 2 \cdot 15 + 1 \cdot 20) = \frac{89}{16} \left(\frac{\text{總積分}}{32 \text{ 隊}} \right) \text{ or } \frac{1}{32} (3 \cdot 8 + 5 \cdot 4 + 10 \cdot 2 + 15 \cdot 1 + 20 \cdot 1) = \frac{99}{32}$$

6. 若 $f(x)$ 為多項式，且滿足 $\lim_{x \rightarrow \infty} \frac{f(x) - 2x^3}{x^2} = 1$ ， $\lim_{x \rightarrow 0} \frac{f(x)}{x} = -3$ ，試求 $f(x)$ 除以 $x-3$ 的餘數

$\rightarrow 54$

$\rightarrow 6$

$$f(x) = 2x^3 + x^2 - 3x \Rightarrow f(3) = 54$$

7. $x, y \in \mathbb{R}$ 使得 $x^3 = 3x^2 - 5x$ ， $y^3 = 6y^2 - 10y + 7$ ，試求 $x+y$ 的值 _____。

$x^3 - 3x^2 + 5x = 0$

$h = \frac{3}{3} = 1$

$3 \cdot 1^2 - 6 \cdot 1 + 5 = 0$

$\Rightarrow (x-1)^3 + 2(x-1) + 3 = 0$

$y^3 - 6y^2 + 14y - 15 = 0$

$h = \frac{6}{3} = 2$

$3 \cdot 2^2 - 12 \cdot 2 + 14 = 0$

$\Rightarrow (y-2)^3 + 2(y-2) - 3 = 0$

$\text{令 } f(t) = t^3 + 2t, \text{ I.P. } (0,0)$

$(x-1, -3)$

$(y-2, 3)$


$x-1+y-2=0 \Rightarrow x+y=3$

$2024.7.4 (14)$

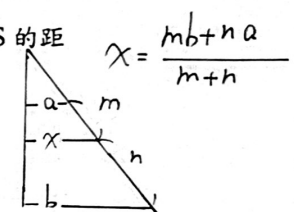
$\sim 7.5 (五)$

R_u

8. $\triangle ABC$ 中, $\overline{AB}=5$, $\overline{AC}=3$, 過 A 點在直線 BC 上的垂足為 H 。若 (向量) $\overline{AH} = -\frac{1}{2}\overline{AB} + \frac{3}{2}\overline{AC}$,
 $\frac{225\pi}{28}$ 試求 $\triangle ABC$ 的外接圓面積 $(-\frac{1}{2}\overline{AB} + \frac{3}{2}\overline{AC}) \cdot (-\overline{AB} + \overline{AC}) = 0$ $\overline{BC} = \sqrt{25+9-2\cdot 3} = 2\sqrt{2}$

\square $\overline{AH} \cdot \overline{BC} = 0 \Rightarrow 2b = \frac{1}{2}(25+27) = 2 \cdot 5 \cdot 3 \cdot \cos A$  $2R = 2 \cdot \frac{\sqrt{2} \cdot 15}{2\sqrt{2}} \Rightarrow \pi R^2 = \frac{225\pi}{28}$

9. 試求 $\sin^2 50^\circ + \sin^2 70^\circ - \sin^2 80^\circ$ 的值 $\frac{1}{2}$
 \square $\sin^2 \frac{\theta}{2} = \frac{1-\cos \theta}{2} \Rightarrow \frac{1}{2} - \frac{1}{2}(\cos 100^\circ + \cos 40^\circ - \cos 60^\circ) = \frac{1}{2} - \frac{1}{2}(2\cos 20^\circ \cos 20^\circ + \cos 20^\circ) = \frac{1}{2}$

10. 空間中有兩條歪斜線 L 與 S , 直線 L 上有三點 A, B, C , 且 $\overline{AB} = \overline{BC}$ 。直線 S 上有三點 D, E, F , 其中 $\overline{AD}, \overline{BE}, \overline{CF}$ 皆垂直 L 。已知 $\overline{AD}=10, \overline{BE}=13, \overline{CF}=24$ 。試求歪斜線 L, S 的距離 _____。
 \square 先備  $x = \frac{mb+na}{m+n}$

91
 11. 設 m 為實數, 已知四次方程式 $3x^4 - 4mx^3 + 1 = 0$ 無實根, 求 m 的範圍為 _____
 $-1 < m < 1$

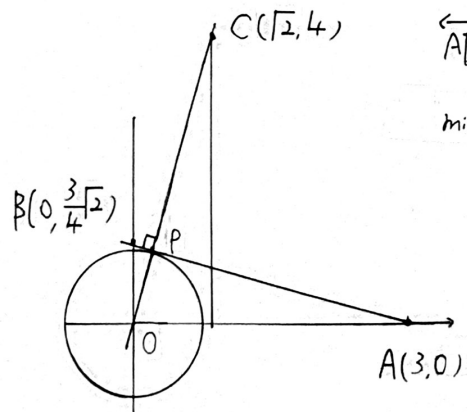
\square $f(x) = 3x^4 - 4mx^3 + 1 = 0 \Rightarrow f'(x) = 12x^3 - 12mx^2 = 0 \Rightarrow x=0, m$
 $\Rightarrow -m^4 + 1 > 0 \Rightarrow (m^2+1)(m+1)(m-1) < 0 \Rightarrow -1 < m < 1$

二、計算題：共 12 分。須詳細過程，否則酌予扣分。

the piano
 \square 1. 試求 $\sqrt{10-6\cos\theta} + \frac{1}{4}\sqrt{34-24\sqrt{2}\sin\theta} + \sqrt{19-2\sqrt{2}\cos\theta-8\sin\theta}$ 的最小值。

$24\sqrt{2} = 2 \cdot 4 \cdot (3\sqrt{2}) \quad 4^2 + (3\sqrt{2})^2 = 34$
 $\sqrt{(\cos\theta-3)^2 + (\sin\theta-0)^2} + \sqrt{(\cos\theta-0)^2 + (\sin\theta-\frac{3}{4}\sqrt{2})^2} + \sqrt{(\cos\theta-\sqrt{2})^2 + (\sin\theta-4)^2}$
 $\frac{1}{4}\sqrt{(4\cos\theta-0)^2 + (4\sin\theta-3\sqrt{2})^2}$

設 $P(\cos\theta, \sin\theta)$, $A(3,0)$, $B(0, \frac{3}{4}\sqrt{2})$, $C(\sqrt{2}, 4)$



$\overleftrightarrow{AB}: \sqrt{2}x + 4y - 3\sqrt{2} = 0, d(O, \overleftrightarrow{AB}) = 1$
 $\min = \overline{AB} + \overline{OC} - 1$
 $= 3\sqrt{2}(1 + \frac{3}{4}) - 1$
 $= \frac{21}{4}\sqrt{2} - 1$

$2\sqrt{169-t^2} = \sqrt{100-t^2} + \sqrt{576-t^2}$
 $\Rightarrow 676-4t^2 = 676-2t^2+2\sqrt{\quad}$
 $\Rightarrow t^4 = t^4 - 676t^2 + 100 \times 576$
 $\Rightarrow t = \frac{24 \times 10}{2 \times 13} = \frac{120}{13}$