

66/100

60 mins.

國立臺中文華高級中學 102 學年度第一次教師甄選  
數學科專業知能試題本

測驗說明:

1. 本試題分填充題(80分)及計算證明題(20分); 填充題分二部分, 第一部分每格4分, 第二部分每格6分, 皆不需計算過程; 計算證明題, 需詳列計算過程或說明理由。
2. 另附五張 A4 計算紙, 可供計算或打草稿, 請勿用答案卷正反面打草稿。計算紙左上角請書寫准考證號碼, 並於考試完畢隨試題收回。

一、 填充題:(請將正確的答案填入正確的題格中, 分式需化至最簡, 根式需有理化, 否則不予計分, 不需計算過程)

第一部分:(每格4分)

1. 設  $x, y, z$  均為實數, 且  $x-y=2+\sqrt{3}$ ,  $x-z=2-\sqrt{3}$ , 則  $x^2+y^2+z^2-xy-yz-zx$   
= \_\_\_\_\_。

2. 求下列的級數和:

$$1 \times 2 + (1 \times 2 + 2 \times 3) + (1 \times 2 + 2 \times 3 + 3 \times 4) + \dots + (1 \times 2 + 2 \times 3 + 3 \times 4 + \dots + (n-1) \times n) = \underline{\hspace{2cm}}。$$

3. 坐標平面中,  $A(3, 6)$ 、 $B(5, 10)$ 、 $C(8, 12)$ 、 $D(4, 6)$ , 若  $M$  為  $\overline{AB}$  中點,  $N$  在  $\overline{CD}$  上,  $\overline{MN}$  將四邊形  $ABCD$  的面積分為兩等分, 求  $N$  點坐標為\_\_\_\_\_。

4. 已知三事件  $A, B, C$  為獨立事件且  $P(A) = \frac{1}{2}$ ,  $P(B) = \frac{1}{3}$ ,  $P(C) = \frac{1}{4}$ , 求  $P(A \cup B \cup C) =$   
\_\_\_\_\_。

~~5.~~ 若正整數  $x, y, z$  的最小公倍數為 360, 且  $a = x \cdot 10^6 + y \cdot 10^3 + z$ , 則  $a$  的可能值有\_\_\_\_\_個。

6. 由 1, 2, 3, ..., 20 挑出  $x_1, x_2, x_3$  三個數字, 且  $x_1 < x_2 < x_3$ . 求  $x_1$  與  $x_2$  至少差 3,  $x_2$  與  $x_3$  至少差 5 的機率為\_\_\_\_\_。

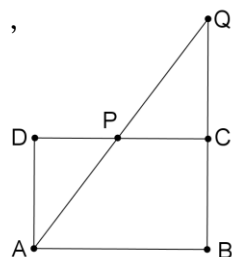
~~7.~~ 設  $A, B, C, D, E$  表示  $z^5 = i$  之五根在複數平面上的對應點, 若點  $P$  為  $1+i$  在複數平面上的對應點, 則  $\overline{PA} \cdot \overline{PB} \cdot \overline{PC} \cdot \overline{PD} \cdot \overline{PE}$  之值為\_\_\_\_\_。

8. 已知甲袋中有 1 黑球 2 白球, 乙袋中有 1 白球 2 黑球, 設每一球被取到之機會均相同, 今同時從甲袋及乙袋中各取 1 球互相交換, 此叫做一回合, 試求長期操作後, 當達穩定狀態時, 甲袋中為 3 白球之機率為\_\_\_\_\_。

第二部分：(每格 6 分)

9. 設  $a_1 + 2a_2 + 3a_3 + \dots + na_n = C_3^{n+2} + n^3 + 2n^2 + n + 2$ ，則  $a_1 + a_2 + a_3 + \dots + a_{10} =$  \_\_\_\_\_。

10. 如右圖，矩形  $ABCD$ ， $\overline{AB} = 4$ ， $\overline{BC} = 1$ ，若過  $A$  點作一直線交  $\overline{CD}$  於  $P$ ，且與  $\overline{BC}$  邊的延長線交於  $Q$ ，若使  $\triangle ADP$  與  $\triangle CPQ$  的面積和為最小，求此時  $\overline{DP}$  的長度為\_\_\_\_\_。



11. 設  $f(a,b) = (61 - a - 28b)^2 + (62 - a - 29b)^2 + (60 - a - 30b)^2 + (58 - a - 31b)^2 + (59 - a - 32b)^2$ ，當  $f(a,b)$  有最小值時，求此時數對  $(a,b) =$  \_\_\_\_\_。

12. 將 63, 91, 129 三數除以某一自然數後，所得的三個餘數和為 25，則此自然數為\_\_\_\_\_。

13. 設函數  $y = f(x) = \frac{(x-1)^2}{2-x}$ ，求  $\frac{f^{(7)}(1)}{f^{(5)}(1)} =$  \_\_\_\_\_

【註： $f^{(n)}(a)$  表示在  $x=a$  處的  $n$  階導數】

~~14.~~ 坐標空間中，點  $A(6,3,4)$ ，點  $B(4,8,3)$ ，點  $P$  為  $x$  軸上任一點，點  $Q$  為  $y$  軸上任一點，求  $\overline{AP} + \overline{PQ} + \overline{QB}$  最小值\_\_\_\_\_。

15. 雅妮參加擲骰子比賽，遊戲規則如下：每次投擲二顆相同的公正骰子，  
 (1) 若擲出點數和為 7 點，可得獎金 100 元，並可以繼續投擲；  
 若再擲出點數和為 7 點，則再得 100 元，並可以繼續投擲，以此類推，  
 (2) 若擲出點數和不是 7 點，則得 30 元，並結束比賽。  
 則雅妮參賽的獎金期望值為\_\_\_\_\_。

16. 設  $f(x) = \frac{\prod_{k=0}^{50} (x-2k)}{\prod_{k=1}^{50} (x+k)}$ ，求  $\log_2 f'(0)$  值=\_\_\_\_\_。

一. 填充

第1部份.

$$1. \frac{1}{2}(2x^2+2y^2+2z^2-2xy-2yz-ZZX)$$

$$= \frac{1}{2}[(x-y)^2 + (y-z)^2 + (x-z)^2]$$

而用  $(x-z) - (x-y) = y-z = -2\sqrt{3}$

$$\text{原式} = \frac{1}{2}[(2+\sqrt{3})^2 + (-2\sqrt{3})^2 + (2-\sqrt{3})^2] = 13 \#$$

$$2. 1 \times 2 \times \underbrace{(n-1)}_{\text{個}} + 2 \times 3 \times (n-2) + \dots + (n-1) \times n \times \underbrace{1}_{\text{個}}$$

$$= \sum_{k=1}^{n-1} k(k+1)(n-k) = \sum_{k=1}^{n-1} nk(k+1) - \sum_{k=1}^{n-1} (k^3+k^2)$$

$$= n \sum_{k=1}^{n-1} (k^2+k) - \sum_{k=1}^{n-1} (k^3+k^2) = \frac{(n-1)n(n+1)(n+2)}{12} \#$$

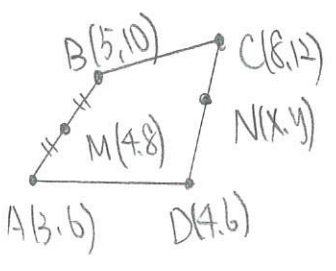
代公式整理

$$3. \text{四邊形 ABCD 面積} = \frac{1}{2} \begin{vmatrix} 3 & 4 & 8 & 5 & 3 \\ 6 & 6 & 12 & 10 & 6 \end{vmatrix} = 7$$

$$\text{" " " AMND " " } = \frac{1}{2} \begin{vmatrix} 3 & 4 & x & 4 & 3 \\ 6 & 6 & y & 8 & 6 \end{vmatrix} = |x-3|$$

$$\frac{7}{2} = |x-3| \Rightarrow x-3 = \pm \frac{7}{2}, x = \frac{13}{2} \text{ 或 } -\frac{1}{2}$$

(不合, by graph)



而 CD:  $y = \frac{3}{2}x$

則  $y = \frac{39}{4}$

解  $N(\frac{13}{2}, \frac{39}{4}) \#$

$$4. P(A \cup B \cup C) = \frac{1}{2} + \frac{1}{3} + \frac{1}{4} - \frac{1}{6} - \frac{1}{12} - \frac{1}{8} + \frac{1}{24} = \frac{3}{4} \#$$

$$5. 360 = 2^3 \times 3^2 \times 5$$

(x,y,z) 的可能性  $\Rightarrow$  挑 2, 3, 5 次方

$\downarrow$

$2^0, 2^1, 2^2, 2^3$

$$(4^2-3^2)(3^2-2^2)(2^2-1^2) = 37 \times 19 \times 7 = 49 \times 1 \#$$

$\downarrow$

扣除大家都從  $2^0, 2^1, 2^2$  中挑 (沒選到  $2^3$ )

$$6. \begin{array}{cccc} & \checkmark & & \checkmark \\ & x_1 & & x_2 & & & x_3 & & \checkmark \\ & \uparrow \uparrow & & \uparrow \uparrow \uparrow & & & & & \uparrow \end{array}$$

四個空隙捨剩下 17 個數 (但有 2 個, 4 個必先進中間兩空隙)

$$H_{17-6}^4 = H_{11}^4 = C_{11}^{14} = 364 \text{ 而全} = C_3^{20} = 1140$$

$$P = \frac{364}{1140} = \frac{91}{285} \#$$

$$7. z^5 - i = (z-z_1)(z-z_2)(z-z_3)(z-z_4)(z-z_5)$$

五根 A, B, C, D, E 為  $z_1, z_2, z_3, z_4, z_5$

所求為  $|(1+i)-z_1| \cdot |(1+i)-z_2| \cdot \dots \cdot |(1+i)-z_5|$

$$= |(1+i)^5 - i| = |-4(1+i) - i| = |-4-5i|$$

$$= \sqrt{16+25} = \sqrt{41} \#$$

8.  $\Rightarrow$  古典機率  $\Rightarrow \frac{C_3^3}{C_3^6} = \frac{1}{20}$  #  
 共 3 白 3 黑, 甲需 3 顆白球 (袋中 3 顆)

$$9. na_n = (C_3^{n+2} + n^3 + 2n^2 + n + 2) - (C_3^{n+1} + (n-1)^3 + 2(n-1)^2 + (n-1) + 2)$$

$$= \dots = \frac{7n^2}{2} + \frac{3n}{2} \Rightarrow a_n = \frac{7n+3}{2} \text{ as } n \geq 2$$

(因公式是利於用  $S_n - S_{n-1}$  得  $a_n$ )

$$\text{故 } \left( \sum_{n=1}^{10} \frac{7n+3}{2} - \frac{7 \cdot 1 + 3}{2} \right) + \frac{C_3^{12} + 1^3 + 2 \cdot 1^2 + 1 + 2}{a_1} = \frac{415}{2} - 5 + 7 = \frac{419}{2} \#$$

10. 設  $\overline{DP} = x \Rightarrow \overline{PC} = 4-x$ , 利用  $\overline{PC} \cdot \overline{AB} = \overline{QC} \cdot \overline{QB}$

$$\text{得 } \overline{QC} = \frac{4-x}{x}$$

$$\text{故 } \Delta ADP + \Delta CPQ = \frac{x}{2} + \frac{1}{x} (4-x)^2$$

$$\text{focus on } x + \frac{1}{x} (4-x)^2 = \frac{2(x^2 - 4x + 8)}{x}$$

$$\text{focus on } \frac{x^2 - 4x + 8}{x} = \underbrace{x - 4 + \frac{8}{x}}_{\text{算几}(x>0)} \geq -4 + 2\sqrt{2}$$

$$\text{等號成立 } \Leftrightarrow x = \frac{8}{x}, \quad x = 2\sqrt{2} \text{ (取正) } \#$$

11. (解1) 偏微  
(時間規的作法)

(解2)

設有一直線  $y = bx + a$

五點  $(28, 61), (29, 62), (30, 60),$

$(31, 58), (32, 59)$

$$(b1 - a - 28b)^2 = (28, 61) \text{ 和 } (28, 28b + a)$$

的距離平方和

$\rightarrow$  Min. 發生在此線為迴歸直線時

$$\Rightarrow \text{這 } (M_x, M_y) = (30, 60)$$

$$b = \frac{S_{xy}}{S_{xx}} = \frac{(-2)+(-2)+0+(-2)+(-2)}{(-2)^2+(-1)^2+0^2+1^2+2^2} = -\frac{4}{5}$$

$$\text{故 } y - 60 = -\frac{4}{5}(x - 30)$$

$$y = -\frac{4}{5}x + 84$$

$$(a, b) = (84, -\frac{4}{5}) \#$$

12.  $63 + 9|+29 = 283$   
 $283 - 25 = 258$

$$\begin{matrix} & 2 & 1 & 2 & 5 & 8 \\ & 3 & 1 & 1 & 2 & 9 \\ & & & & & 43 \end{matrix}$$

該數必  $< 63 \Rightarrow 6$  或  $43$

若是 6  $\Rightarrow$  餘數和 =  $3 + 1 + 9 + 25$

若是 43  $\Rightarrow$  餘數和 =  $20 + 5 + 0 = 25$

故此數為  $43 \#$

13.  $f(x) = (-x) + (2-x)^{-1}$

$f'(x) = -1 + (-1) \cdot (2-x)^{-2} \cdot (-1) = -1 + (2-x)^{-2}$

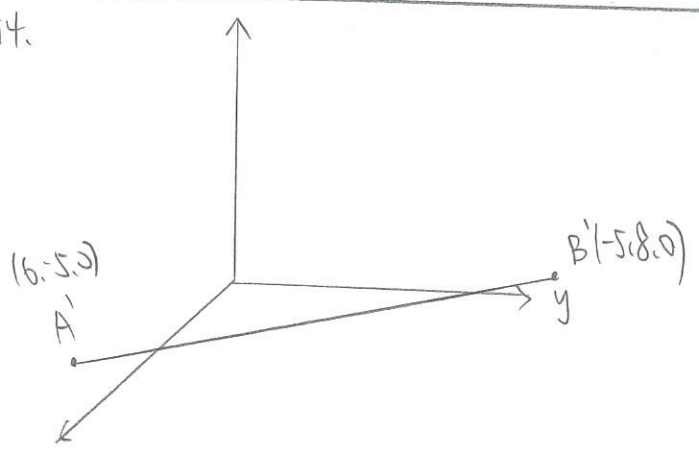
$f''(x) = -2(2-x)^{-3} \cdot (-1) = 2(2-x)^{-3}$

$\Rightarrow f^{(n)}(x) = n! (2-x)^{-(n+1)}$

$f^{(7)}(1) = 7! (2-1)^{-(7+1)} = 7!$

$f^{(5)}(1) = 5! (2-1)^{-(5+1)} = 5!$

所求 =  $\frac{7!}{5!} = 42 \#$



$\Rightarrow A$  到  $z$  軸距離 =  $\sqrt{3^2+4^2} = 5$

$A$  到  $x$  軸距離不動  $\Rightarrow$  以  $A$  在  $x$  軸的投影為圓心, 旋轉  $A$  到  $xy$  平面  $(6, 5, 0)$  by graph. 如要轉到  $y$  負向  
 $B$  " " " "  $\Rightarrow$  "  $B$  "  $y$  " " " " " " " " " "  $B$  "  $(-5, 8, 0)$  " " " " " "  $x$  " "

此時  $\min = \sqrt{121+64} = \sqrt{185} \#$

15.  $P(\text{某項和}) = \frac{6}{26} = \frac{1}{6}$

$\frac{5}{6} \times 30 + \frac{1}{6} \times \frac{5}{6} \times (100+30) + \frac{1}{6} \times \frac{1}{6} \times \frac{5}{6} \times (200+30) + \dots$

[  $100 (\frac{1}{6} \times \frac{5}{6} + (\frac{1}{6})^2 \times \frac{5}{6} \times 2 + \dots)$

$30 (\frac{5}{6} + \frac{1}{6} \times \frac{5}{6} + \frac{1}{6} \times \frac{1}{6} \times \frac{5}{6} + \dots)$

$S = \frac{1}{6} \times \frac{5}{6} + 2 \times \frac{1}{6} \times \frac{5}{6} + \dots$

$\frac{1}{6} S = \frac{1}{6} \times \frac{5}{6} + \frac{1}{6} \times \frac{1}{6} \times \frac{5}{6} + \dots$

$\frac{5}{6} S = \frac{1}{6} \times \frac{5}{6} + \frac{1}{6} \times \frac{5}{6} + \dots \Rightarrow S = \frac{1}{6} + \frac{1}{6} + \dots$

$a_1 = \frac{1}{6}, r = \frac{1}{6}, S_\infty = \frac{1}{5}$

$S' = \frac{5}{6} + \frac{1}{6} \times \frac{5}{6} + \dots$

$a_1 = \frac{5}{6}, r = \frac{1}{6}, S_\infty = 1$

所求為  $100 \times \frac{1}{5} + 30 \times 1$   
 $= 20 + 30$   
 $= 50 \#$



16.

$$f(x) = \frac{(x-0)(x-2)(x-4)\dots(x-100)}{(x+1)(x+2)\dots(x+50)}$$

$$= x \cdot \left(1 - \frac{2}{x+1}\right) \cdot \left(1 - \frac{4}{x+2}\right) \dots \left(1 - \frac{100}{x+50}\right)$$

$$f'(0) = \left[ \left(1 - \frac{2}{x+1}\right) \left(1 - \frac{4}{x+2}\right) \dots \left(1 - \frac{100}{x+50}\right) + 0 \right] \Big|_{x=0}$$

↓

$$= (1-2)(1-3)\dots(1-50)$$

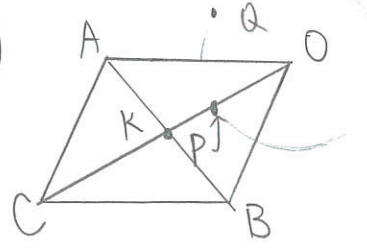
其他括號  
都會留x=0  
就全0

$$= (-2)^{50} = 2^{50}$$

$$\log_2 f'(0) = 50 \#$$

計算一：  
 平面上有三定點ABC及一圓，O為圓心，r為半徑。  
 若AOBC為平行四邊形，且與圓不相交。  
 若圓上有一點P，使得  $PA^2 + PB^2$  為最小時，  
 試證：P為OC和圓的交點

試利用  $\vec{OA}, \vec{OB}, \vec{OC}, r$  來表示  $PA^2 + PB^2$  的最小值。

(1)  設AB, OC兩對角線交點為K  
 設取異於P點的Q ∈ 圓

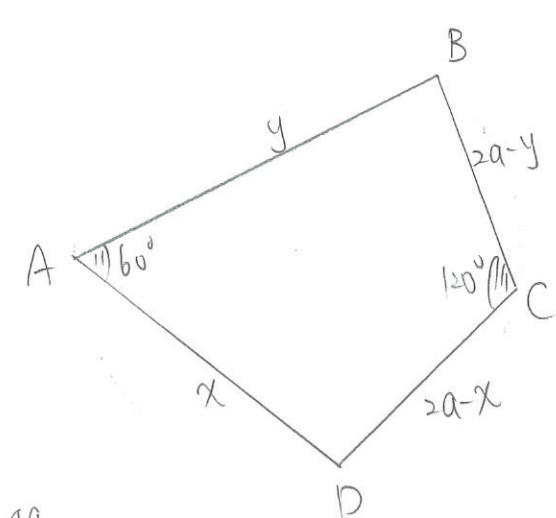
$\triangle QAB$  中  $\vec{QA}^2 + \vec{QB}^2 = 2(\vec{QK}^2 + \vec{AK}^2)$   
 $\triangle PAB$  中  $\vec{PA}^2 + \vec{PB}^2 = 2(\vec{PK}^2 + \vec{AK}^2)$   
 而又因圓中離K最近的點即為P (圓和OC交點)  
 故  $\vec{PK}^2 < \vec{QK}^2 \Leftrightarrow \vec{PA}^2 + \vec{PB}^2$  為最小 #

(2)  $\vec{PA}^2 + \vec{PB}^2 = 2(\vec{PK}^2 + \vec{AK}^2)$   $\rightarrow \vec{AB} = \vec{OC}$

$$= 2 \left[ \left(\frac{1}{2}\vec{OC} - r\right)^2 + \left(\frac{1}{2}\vec{AB}\right)^2 \right] = \vec{OC}^2 - 2\vec{OC} \cdot r + 2r^2 \#$$

計算二：  
 橢圓焦點為A, C，橢圓上有B, D兩點  
 其中四邊形ABCD的四邊長乘積為2013  
 且  $\angle BAD = 60^\circ, \angle BCD = 120^\circ$  求ABCD面積 = ?

根據題意可畫出以下示意圖



$$S = \frac{4a}{2} = 2a$$

$$\sqrt{(2a-y)(y)(2a-x)(x)} = \sqrt{2013} \#$$

$$\sqrt{(s-a)(s-b)(s-c)(s-d) - abcd \cos^2\left(\frac{B+D}{2}\right)}$$

↓  
 圓內接  $B+D = 180^\circ$   
 ↓  
 $\sqrt{(s-a)(s-b)(s-c)(s-d)}$