

54/80 60mins

國立臺中文華高級中學 101 學年度第一次教師甄選
數學科試題本

測驗說明：

本試卷分三部份，前二部份為填充題，不需計算過程，但答案中若有分式需化至最簡，根式需有理化，否則不予計分；第三部份為計算證明題，需詳列計算過程或說明理由，否則不予計分。

填充題：(第一部份，每格 4 分)

1. 設兩圖形 $\Gamma: \frac{(x-1)^2}{n^2} + y^2 \leq 1$, $\Gamma': (x+3)^2 + \frac{(y+2)^2}{n^2} \leq 1$ (其中 $n \geq 10$)，其相交部份的面積為 a_n ，則 $\lim_{n \rightarrow \infty} a_n =$ _____。

~~2.~~ 設 a 為實數，且 $x^2 + ax + (8-a) = 0$ 的兩根都大於 3，則 a 的範圍為 _____。

3. 考慮滿足 $a^2 + b^2 = 49$, $c^2 + d^2 - 16c - 12d = -96$ 的所有實數 a, b, c, d ，求 $\sqrt[3]{16c + 12d - 2ac - 2bd - 47}$ 的最小值為 _____。

4. 設 n 為一個 101 位數的正整數，且能被 9 整除。令 n 的所有位數之和為 a ， a 的所有位數之和為 b ，則 b 的所有可能值之和為 _____。

5. 試求 $\int_1^2 (x^3 - 5x^2 + x - 6)(x-1)^3 dx$ 的值。

6. 一個實係數三次多項式函數通過 $(101, 2012)$ 、 $(99, 2008)$ 、 $(102, 2005)$ 、 $(103, 2016)$ 四點，求此函數的切線中，斜率最小的切線所在的直線方程式為 _____。

~~7.~~ 將一列 n 個 ($n \geq 2$) 的小方格中最左邊的黑棋向右移動，每次移動 1 或 2 格，直至最右邊的小方格為止。假設由最左移至最右有 a_n 種移動方法，每種移動方法的機會均等，「移動次數」的期望值為 E_n ，求數對 (a_7, E_7) 為 _____。



8. $\triangle ABC$ 中， $A(2, -4)$ ，若 $\angle B$ 、 $\angle C$ 之角平分線分別為 $L_1: x + y - 2 = 0$ 及 $L_2: x - 3y - 6 = 0$ ，則 \overline{BC} 之方程式為 _____。

填充題：(第二部份，每格 6 分)

~~9.~~ 送分 有一組正整數 $a_2, a_3, a_4, a_5, a_6, a_7$ 使得 $\frac{4}{7} = \frac{a_2}{2!} + \frac{a_3}{3!} + \frac{a_4}{4!} + \frac{a_5}{5!} + \frac{a_6}{6!} + \frac{a_7}{7!}$ ，其中 $0 \leq a_i < i$ ($i = 2, 3, 4, 5, 6, 7$)，求數對 $(a_2, a_3, a_4, a_5, a_6, a_7) =$ _____。

10. 設甲、乙兩袋中，甲袋有 1 白球 1 黑球，乙袋有 1 白球，從甲袋隨機取 1 球放入乙袋後，再從乙袋隨機取 1 球放回甲袋，完成這樣的動作稱為一局，試求 n 局後甲袋有 1 白球 1 黑球的機率為_____。（答案請以 n 表示）

11. 實數 a, b 滿足 $(a+bi)^{101} = a-bi$ (其中 $i = \sqrt{-1}$)，則數對 (a, b) 有_____組解。

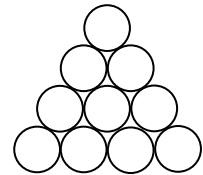
12. $y = [x]$ 表高斯函數，求 $\sum_{k=1}^{40} [10^{\frac{k}{40}}] =$ _____。

~~13.~~ 將十次多項式 $(x+1)(x+2)(x+3)(x+4)(x+5)(x+6)(x+7)(x+8)(x+9)(x+10)$ 展開後得 $x^{10} + 55x^9 + a_8x^8 + a_7x^7 + \dots + 10!$ ，若 $a_8 = 55M$ ， $a_7 = 55^2N$ ，其中 M, N 為正整數，求數對 $(M, N) =$ _____。

~~14.~~ 空間中，四面體 A-BCD， $\overline{AB} = \overline{CD} = 6$ ， $\overline{AC} = \overline{AD} = \overline{BC} = 5$ ， $\overline{BD} = 7$ ，求四面體 A-BCD 的體積為_____。

~~15.~~ 四邊形 ABCD， $\overline{AB} = 14$ 、 $\overline{BC} = 9$ 、 $\overline{CD} = 7$ 、 $\overline{DA} = 12$ ，求四邊形 ABCD 的所有內切圓中，面積最大者為_____。

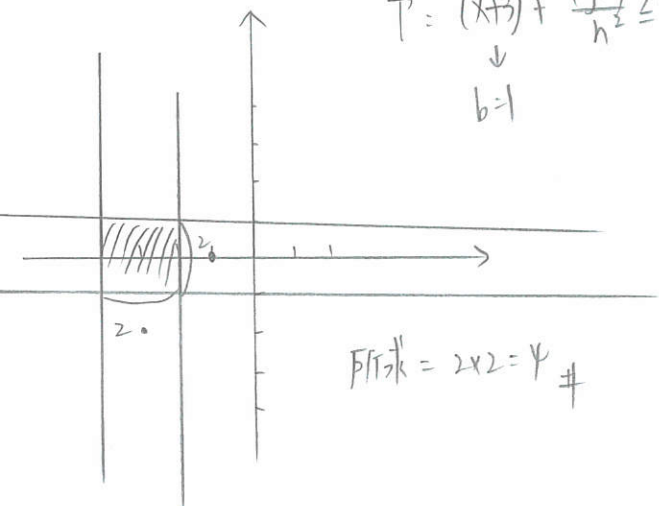
16. 用 5 種不同顏色塗右圖的 10 個固定不動的圓形區域，且相鄰區域須塗不同色，則共有_____種塗法。



一、填充

1. $h \rightarrow \infty \Rightarrow$ 拉成長方形 $P = \frac{(x-1)^2}{h^2} + y^2 \leq 1$... 左右型
 \downarrow
 $b=1$

$P' = (x+3)^2 + \frac{(y+2)^2}{h^2} \leq 1$... 上下型
 \downarrow
 $b=1$



所求 = $2 \times 2 = 4$ #

2. $\begin{cases} \alpha + \beta = -a \\ \alpha\beta = 8-a \end{cases} \Rightarrow \begin{cases} (\alpha-3) + (\beta-3) > 0 & \dots (1) \\ (\alpha-3)(\beta-3) > 0 & \dots (2) \\ D \geq 0 & \dots (3) \end{cases}$

(1) $\rightarrow a < -6$ (2) $\rightarrow a > -\frac{19}{2}$

(3) $\rightarrow a^2 - (8-a) \cdot 4 \geq 0 \Rightarrow a \leq -8$ 或 $a \geq 4$

取交集得 $-\frac{19}{2} < a \leq -8$ #

3. focus on $(-1) = 49 - 9b$

$1/bc + 1/d - 2ac - 2bc + (a^2 + b^2) + (c^2 + d^2 - 16c - 12d)$

$= (a-c)^2 + (b-d)^2$

(a,b) 在 $M_1(0,0)$ $r_1=7$ 的圓, (c,d) 在 $M_2(8,6)$ $r_2=2$ 的圓

$\min = \overline{M_1M_2} - (7+2) = 10 - 9 = 1$

所求 = $\sqrt{1} = 1$ #

4. $a_1 + \dots + a_{101} = (9k)^a$
 $\max = 909 \rightarrow 18$

故 b 的可能值 9 或 18 $\Rightarrow 27$ #

5. 令 $y = x-1, dy = dx, x = y+1$

$(x^3 - 5x^2 + x - b) \geq (x-1) = (x-1)^2 \dots (-2x^2 - 2x - 5)$

$(x^3 - 5x^2 + x - b) = y^3 + (-2x^2 - 2x - 5)$
 $= y^3 - 2(y+1)^2 - 2(y+1) - 5$
 $= y^3 - 2y^2 - 6y - 9$

$\int_0^1 (y^3 - 2y^2 - 6y - 9) y^3 dy$

$= \left(\frac{1}{7} y^7 - \frac{1}{3} y^6 - \frac{6}{5} y^5 - \frac{9}{4} y^4 \right) \Big|_0^1 = \frac{-1529}{420}$ #

6. 平移 $x \rightarrow -100, y \rightarrow 2000$

新四角: $(1, 12), (-1, 8), (2, 5), (3, 16)$

$f(x) = a(x-1)(x+1)(x-2) + b(x-1)(x+1) + c(x-1)$

代入解得 $a=3, b=-3, c=2$ $+1^2$

$\Rightarrow f(x) = 3x^3 - 9x^2 - x + 19$

$\Rightarrow f'(x) = 9x^2 - 18x - 1 = 9(x-1)^2 - 10$ 當 $x=1$ 時

有最小切線斜率 = -10

$(1, 12) \rightarrow (101, 2012), m$ 不變 (平移)

所求: $y - 2012 = -10(x - 101) \Rightarrow y = -10x + 3022$ #

7.

$$a_n = a_{n-1} + a_{n-2}$$

$$a_2 = 1, a_3 = 2 \quad (1+1 \text{ 或 } 2)$$

$$\Rightarrow a_4 = 3, a_5 = 5, a_6 = 8, a_7 = 13 \quad \#$$

$$x + 2y = 6$$

x	0	2	4	6
y	3	2	1	0
	↓	↓	↓	↓
移动次数	3	4	5	6
走法	1	$\frac{4!}{2!2!}$	$\frac{5!}{4!1!}$	1
		11	11	
		6	5	

初始 $a_7 = 13$ (合理)

$$\Rightarrow E_7 = 3 \times \frac{1}{13} + 4 \times \frac{6}{13} + 5 \times \frac{5}{13} + 6 \times \frac{1}{13}$$

$$= \frac{58}{13} \quad \#$$

7.

$$\Delta(2x-4) \text{ 对 } L_1: x+y-2=0$$

$$\text{作对称点 } A' = (2-2 \cdot \frac{-4}{2}, -4-2 \cdot \frac{-4}{2})$$

$$= (6, 0)$$

$$A(2, -4) \text{ 对 } L_2: x-3y-6=0$$

$$\text{作对称点 } A'' = (2-2 \cdot \frac{8}{10}, -4-2 \cdot (-\frac{8}{10}))$$

$$= (\frac{2}{5}, \frac{4}{5})$$

$$\overline{A'A''} \text{ ef} = \overline{BC} \text{ ef} \Rightarrow x+y-6=0 \quad \#$$

二. 填表

9. 送分

10. 甲的转移矩阵 A

$$\begin{matrix} 1w/B & 2w \\ 1w/B & 2w \end{matrix} \begin{bmatrix} \frac{3}{4} & \frac{1}{2} \\ \frac{1}{4} & \frac{1}{2} \end{bmatrix} \stackrel{\text{let}}{=} A \Rightarrow A \text{ 的 eigenvalue}$$

$$\lambda = 1 \text{ 或 } \frac{1}{4}$$

$$\Rightarrow a_n = P \times 1^n + Q \times (\frac{1}{4})^n \quad \begin{cases} a_1 = \frac{2}{3} \\ a_2 = \frac{11}{16} \end{cases}$$

$$a_1 = P + \frac{1}{4}Q = \frac{2}{3}$$

$$a_2 = P + \frac{1}{16}Q = \frac{11}{16} \Rightarrow (P, Q) = (\frac{2}{3}, \frac{1}{3})$$

$$\text{得所求 } a_n = \frac{1}{3} \times (\frac{1}{4})^n + \frac{2}{3} \quad \#$$

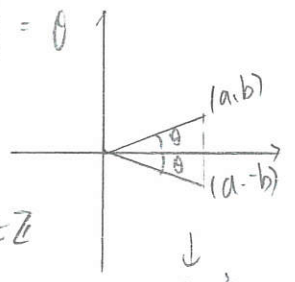
11. 长度=1 设幅角 = θ

$$\Rightarrow 101\theta = -\theta$$

$$\Rightarrow 102\theta = 0 + 2k\pi, k \in \mathbb{Z}$$

$$0 \leq \theta = \frac{2k\pi}{102} < 2\pi$$

$$0 \leq \frac{k\pi}{51} < \pi \Rightarrow k = 0 \sim 101 \Rightarrow 102 \text{ 组解}$$



↓
 $a^2 + b^2 \neq 0$
(不全为0的 case)

考虑 $a=0, b=0 \Rightarrow 1 \text{ 组解}$, 故共 103 组解 #

12. $10^{0.3010} = 2 \rightarrow 0.3010 \times 40 = 12.1 \dots$
 $10^{0.4771} = 3 \rightarrow 0.4771 \times 40 = 19.1 \dots$
 $10^{0.6020} = 4 \rightarrow 0.6020 \times 40 = 24.1 \dots$
 $10^{0.6990} = 5 \rightarrow 0.6990 \times 40 = 27.9 \dots$
 $10^{0.7781} = 6 \rightarrow 0.7781 \times 40 = 31.1 \dots$
 $10^{0.8451} = 7 \rightarrow 0.8451 \times 40 = 33.8 \dots$
 $10^{0.9030} = 8 \rightarrow 0.9030 \times 40 = 36.1 \dots$
 $10^{0.9542} = 9 \rightarrow 0.9542 \times 40 = 38.1 \dots$
 $10^1 = 10 \rightarrow 1 \times 40 = 40$

$k=1 \sim 12 \rightarrow \textcircled{1}$ $k=37 \sim 38 \rightarrow \textcircled{8}$
 $k=13 \sim 19 \rightarrow \textcircled{2}$ $k=39 \rightarrow \textcircled{9}$
 $k=20 \sim 24 \rightarrow \textcircled{3}$ $k=40 \rightarrow 10$
 $k=25 \sim 27 \rightarrow \textcircled{4}$
 $k=28 \sim 31 \rightarrow \textcircled{5}$
 $k=32 \sim 33 \rightarrow \textcircled{6}$
 $k=34 \sim 36 \rightarrow \textcircled{7}$

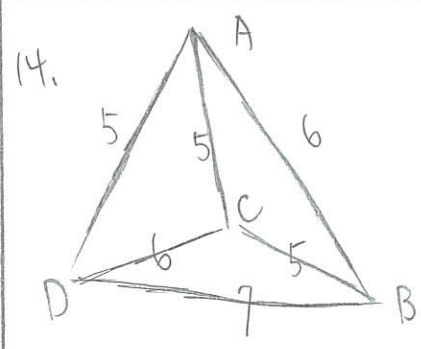
故和為 $1 \times 1 + 2 \times 2 + \dots$
 $= 141 \neq$

13. $a_8 =$ 相異兩數互乘總和
 $= \frac{1}{2} \times [(1+2+3+\dots+10)(1+2+3+\dots+10) - (1^2+2^2+\dots+10^2)]$
 括弧內會算到 $1 \times 2, 2 \times 1, 2 \times 3, 3 \times 2, \dots$ etc.

$a_8 = \frac{1}{2} \times [55^2 - 7 \times 55] = 55 \left[\frac{55-7}{2} \right] = 55 \times 24$
 M

而 $a_7 = \frac{1}{3} [a_8(1+2+\dots+10) - 1^2(55-1) - 2^2(55-2) - \dots]$
 $= \frac{1}{3} [24 \times 55^2 - 55(1^2+2^2+\dots+10^2) + (1^3+2^3+\dots+10^3)]$
 $= \frac{1}{3} [24 \times 55^2 - 7 \times 55^2 + 55^2]$
 $= 55^2 \times [8 - \frac{7}{3} + \frac{1}{3}] = 55^2 \times 6$
 N

$(M, N) = (24, 6) \neq$



$C(10, 0, 0)$
 $D(6, 0, 0)$
 $A(3, 0, 4)$

$$\Rightarrow \begin{cases} (x-3)^2 + y^2 + (z-4)^2 = 36 \\ x^2 + y^2 + z^2 = 25 \\ (x-6)^2 + y^2 + z^2 = 49 \end{cases}$$

$\triangle ACD$ 底為 xz 平面
 $B(x, y, z)$
 解得 $x=1, z=1, y=\sqrt{23}$ (by graph)
 ↓
 到 xz 平面距離
 (高)

$V = \frac{b \times 4}{2} \times \sqrt{23} \times \frac{1}{4} = 3\sqrt{23}$
 #

15. 任意四邊形面積公式 = $\sqrt{(s-a)(s-b)(s-c)(s-d)} - abcd \cdot \cos^2\left(\frac{B+D}{2}\right)$

Max $\Rightarrow \frac{B+D}{2} = 90^\circ \Rightarrow B+D = 180^\circ$ (圓內接四邊形)

\Rightarrow 此時面積 = $r s = \sqrt{(s-a)(s-b)(s-c)(s-d)}$
四邊形的內切圓半徑

$S = \frac{14+9+7+12}{2} = 21 \Rightarrow 21r = 42\sqrt{6} \Rightarrow r = 2\sqrt{6}$

$\pi r^2 = 24\pi \neq$

16. 先塗中間 \rightarrow 大環 \rightarrow 三角落

$5 \times [(4+1)^6 + (1)^6 (4+1)] \times 3^3 = 5 \times (732) \times 27 = 98820 \neq$

二、填數

$\frac{4}{7} = \frac{a_2}{2!} + \frac{a_3}{3!} + \frac{a_4}{4!} + \frac{a_5}{5!} + \frac{a_6}{6!} + \frac{a_7}{7!}$

sol. 同乘 7! $\Rightarrow 280 = 7 \cdot 6 \cdot 5 \cdot 4 \cdot 3 \cdot a_2$
 $+ 7 \cdot 6 \cdot 5 \cdot 4 \cdot a_3$
 $+ 7 \cdot 6 \cdot 5 \cdot a_4$
 $+ 7 \cdot 6 \cdot a_5$
 $+ 7 \cdot a_6$
 $+ a_7$ 連續的概念

$280 \div 7 = 40 \dots 3 \rightarrow a_7$
 $40 \div 6 = 6 \dots 4 \rightarrow a_6$
 $6 \div 5 = 1 \dots 1 \rightarrow a_5$
 $1 \div 4 = 0 \dots 1 \rightarrow a_4$
 $0 \div 3 = 0 \dots 0 \rightarrow a_3$
 $0 \div 2 = 0 \dots 0 \rightarrow a_2$

故 $(a_2, a_3, a_4, a_5, a_6, a_7)$
 $= (1, 0, 1, 3, 3, 3)$
 \downarrow
 原題寫正整數，故送分

三 計算

1. 設 $A = \begin{bmatrix} a & b \\ c & d \end{bmatrix} \neq I_2$, 若 $A^3 = I_3$, 證明 $a+d = -1$ (6分)

$$\det(A^3) = (\det A)^3 = \det(I_3) = 1 \Rightarrow \det A = 1 \quad (A^{-1} \text{ exist})$$

$$\Rightarrow A^2 = A^{-1} \Rightarrow \begin{pmatrix} a^2+bc & b(at+d) \\ c(at+d) & d^2+bc \end{pmatrix} = \begin{pmatrix} d & -b \\ -c & a \end{pmatrix}$$

$$b(at+d) = -b \Rightarrow b(at+d+1) = 0 \Rightarrow \text{證 } b \neq 0 \text{ 且 } c \neq 0$$

$$c(at+d) = -c \Rightarrow c(at+d+1) = 0$$

若 $b=c=0 \Rightarrow a^2=d \Rightarrow a=d=0$ 或 $a=d=1$

$$\begin{matrix} d^2=a \\ \text{(皆正)} \end{matrix} \quad A = \begin{pmatrix} a & 0 \\ 0 & a \end{pmatrix} \quad \begin{matrix} \downarrow \\ \text{(皆不合)} \end{matrix} \quad \begin{pmatrix} 1 & 0 \\ 0 & 1 \end{pmatrix}$$

$b=0$ 或 $c=0 \Rightarrow a^2=d \Rightarrow a=d=0$ 或 $a=d=1$

$$\begin{matrix} d^2=a \\ \text{(皆正)} \end{matrix} \quad \begin{matrix} \downarrow \\ \text{(皆不合)} \end{matrix} \quad \begin{pmatrix} 0 & 0 \\ 0 & 0 \end{pmatrix} \neq I_3 \quad \begin{pmatrix} 1 & 0 \\ 0 & 1 \end{pmatrix} \neq I_3$$

故 $b \neq 0$ 且 $c \neq 0$, 得 $a+d = -1$ #

2. $f(x) = a_n x^n + a_{n-1} x^{n-1} + \dots + a_1 x + a_0$, 若 $a_n, f(1), f(0)$ 均為奇數, 試證: $f(x) = 0$ 沒有有理根 \rightarrow 整除數 (6分)

設 $f(x) = 0$ 有一有理根 $x = \frac{p}{q}$, $(p, q) = 1, p, q \in \mathbb{Z}$

$p|a_n$ 且 $q|a_0 \Rightarrow$ 因 $a_n, f(0) = a_0$ 均為奇數
故 p, q 為奇數 $\Rightarrow p, q$ 為偶數

$$f(x) = (px - q)Q(x) \Rightarrow f(1) = (p - q)Q(1) \text{ 為奇數}$$

$$\Rightarrow p - q \text{ 為奇數 } (*)$$

得 $f(x) = 0$ 沒有有理根 #

3. 若 $p, q \in \mathbb{N}$, 且 $p^2 + 5pq + q^2 = 7^{101}$, 求 q 的所有可能解? (8分)

看成 p 的二次式

$$\Rightarrow p^2 + (5q)p + (q^2 - 7^{101}) = 0$$

$$D = (5q)^2 - 4(q^2 - 7^{101})$$

$$= 25q^2 - 4q^2 + 4 \cdot 7^{101} = 7(3q^2 + 4 \cdot 7^{100})$$

\Rightarrow 因 $p \in \mathbb{N}$, 故 D 為完全平方數
(根號才開得出來)

$\Rightarrow q$ 為 7 的倍數, 且 p 為 7 的倍數

$$\text{令 } q = 7q_1, p = 7p_1$$

代入原式, $p_1^2 + 5p_1q_1 + q_1^2 = 7^{99}$ (一次降二次方)

$$\Rightarrow p^2 + 5pq + q^2 = 7 \quad (\text{降了 } 50 \text{ 次})$$

$$p, q \in \mathbb{N}$$

$$(p+q)^2 + 3pq = 7$$

討論得 $p = q = 1$ (或直接看)

$$q = 7^{50} \quad \#$$

