


◆◆基本題6◆◆

下列有關兩變量  $X$  與  $Y$  的 20 對點資料的五個散佈圖中，哪一個的相關係數最接近 0.25？


(A)



(B)




(C)



(D)



(E)



【80 社會】

〈答〉(A)