

2017 TRML 數學競賽(第 19 屆)個人賽

俞克斌老師編寫

第一回

I-1. 凸四邊形 $ABCD$ 中，已知 $\angle ABC$ 與 $\angle CDA$ 均為直角，

且 $\tan \angle ABD = \frac{2}{3}$ ， $\tan \angle BDA = \frac{4}{7}$ ，則 $\frac{\Delta BCD \text{ 面積}}{\Delta BAD \text{ 面積}} = \underline{\hspace{2cm}}$ 。

【2017 TRML(第 19 屆)個人賽】

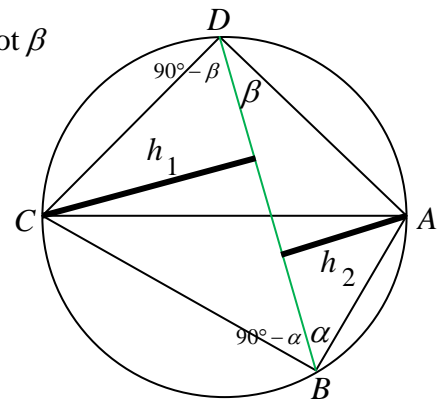
答： $\frac{21}{8}$ $0^\circ < \theta < 90^\circ$

解： $\overline{BD} = h_1 \cot(90^\circ - \alpha) + h_1 \cot(90^\circ - \beta) = h_2 \cot \alpha + h_2 \cot \beta$

$$\overline{BD} = h_1 \left(\frac{2}{3} + \frac{4}{7} \right) = h_2 \left(\frac{3}{2} + \frac{7}{4} \right)$$

$$\Rightarrow h_1 \times \frac{26}{21} = h_2 \times \frac{26}{8} \Rightarrow \frac{h_1}{h_2} = \frac{21}{8}$$

$$\text{則 } \frac{\Delta BCD \text{ 面積}}{\Delta BAD \text{ 面積}} = \frac{\frac{1}{2} \times \overline{BD} \times h_1}{\frac{1}{2} \times \overline{BD} \times h_2} = \frac{h_1}{h_2} = \frac{21}{8}$$



I-2. 某商店上半年前 4 個月的盈虧情形為：

一月份、二月份都不賺不賠，三月份賠 6 萬元，四月份賺 18 萬元，

設 k 月份賺了 $f(k)$ 萬元（若賠錢則 $f(k)$ 為負的），其中 $f(x)$ 為至多 3 次的多項式，則 $f(x)$ 的常數項為 $\underline{\hspace{2cm}}$ 。

【2017 TRML(第 19 屆)個人賽】

答： -42

$$\begin{aligned} \text{解： } f(x) &= 0 \times \frac{(x-2)(x-3)(x-4)}{(1-2)(1-3)(1-4)} + 0 \times \frac{(x-1)(x-3)(x-4)}{(2-1)(2-3)(2-4)} \\ &\quad + (-6) \times \frac{(x-1)(x-2)(x-4)}{(3-1)(3-2)(3-4)} + 18 \times \frac{(x-1)(x-2)(x-3)}{(4-1)(4-2)(4-3)} \\ f(0) &= 0 + 0 + (-6) \times \frac{(-1)(-2)(-4)}{2 \times 1 \times (-1)} + 18 \times \frac{(-1)(-2)(-3)}{3 \times 2 \times 1} = -42 \end{aligned}$$

I-3. 有一個六位數為 2017ab，若無論 a 為何值，此六位數都不會是 11 的倍數，

則 $b = \underline{\hspace{2cm}}$ 。

【2017 TRML(第 19 屆)個人賽】

答： 6

解： 依題意：當 $(0+7+b) - (2+1+a) = 4+b-a$ 中，無論 a 為何值，都不能被 11 整除則表 $b=6$ （此時 a 以 0~9 代入，原數均不能被 11 整除）

第二回

I-4. 設 $A(-1, -1)$ 、 $B(-3, 0)$ 、 $C(a, b)$

$$\text{滿足} \begin{cases} a+b \leq 8 \\ a-b \leq 10 \\ 9a+b \geq 0 \end{cases}$$

則 $\triangle ABC$ 的面積最大值為_____。

【2017 TRML(第 19 屆)個人賽】

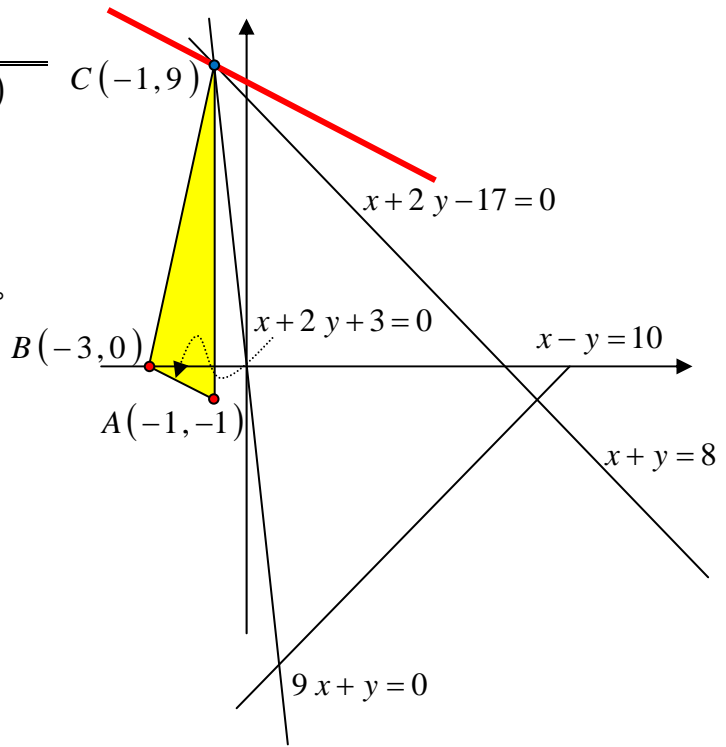
答：10

解： $d(C(-1, 9), \overleftrightarrow{AB}: x+2y+3=0)$

$$= \frac{|-1+18+3|}{\sqrt{5}} = \frac{20}{\sqrt{5}}$$

則 $\triangle ABC$ 的面積最大值

$$\text{為} \frac{1}{2} \times \sqrt{5} \times \frac{20}{\sqrt{5}} = 10$$



I-5. 設實數 x 滿足 $\log_{5x+4} (x^2 + 4x + 4) + \log_{x+2} (5x^2 + 14x + 8) = 4$ ，

則 x 的最小值為_____。

【2017 TRML(第 19 屆)個人賽】

答： $-\frac{1}{2}$

解：原式 $\Rightarrow \log_{5x+4} (x+2)^2 + \log_{x+2} (5x+4)(x+2) = 4$ ，令 $A = \log_{5x+4} (x+2)$

$$\text{原式} \Rightarrow 2A + \frac{1}{A} + 1 = 4 \Rightarrow 2A^2 - 3A + 1 = 0 \Rightarrow A = \frac{1}{2} \text{ 或 } 1$$

$$\text{故} \log_{5x+4} (x+2) = \frac{1}{2} \text{ 或 } 1 \Rightarrow (5x+4) = (x+2)^2 \text{ 或 } (5x+4) = (x+2)$$

$$\Rightarrow x = 0 \text{ 或 } 1 \text{ 或 } -\frac{1}{2}$$

I-6. 令 $a_1 = \sqrt{5} + 1$ ， $a_{n+1} = \frac{1}{1-a_n}$ ($n=1, 2, 3, \dots$)。

若此數列 $\{a_n\}$ 中前 60 項的總和為 a ，前 60 項的乘積為 b ，

則 $a+b =$ _____。

【2017 TRML(第 19 屆)個人賽】

答： $46+11\sqrt{5}$

解： $a_1 = \sqrt{5} + 1$ ， $a_2 = -\frac{\sqrt{5}}{5}$ ， $a_3 = \frac{5-\sqrt{5}}{4}$ ，

$$\text{而} a_1 + a_2 + a_3 = \frac{45+11\sqrt{5}}{20} \text{，} a_1 \times a_2 \times a_3 = -1$$

$$a_4 = \sqrt{5} + 1 \text{，} a_5 = -\frac{\sqrt{5}}{5} \text{，} a_6 = \frac{5-\sqrt{5}}{4}$$

$$\text{而 } a_4 + a_5 + a_6 = \frac{45+11\sqrt{5}}{20} \text{、} a_4 \times a_5 \times a_6 = -1$$

... (每三項一循環)

故此數列中前60項的總和為 $\frac{45+11\sqrt{5}}{20} \times 20 = 45+11\sqrt{5}$ ，前60項的乘積為 $(-1)^{20} = 1$

第三回

I-7. 若圓 O (O 為圓心) 之直徑為 \overline{AB} ，在 \overline{AB} 的延長線上取一點 P 使得 B 在 A 、 P 之間，自 P 作圓 O 的切線，令切點為 C ，若 $\overline{AC} = \overline{PC}$ ，則 $\frac{\overline{AP}}{\overline{AB}} = \underline{\hspace{2cm}}$ 。

【2017 TRML(第19屆)個人賽】

答： $\frac{3}{2}$

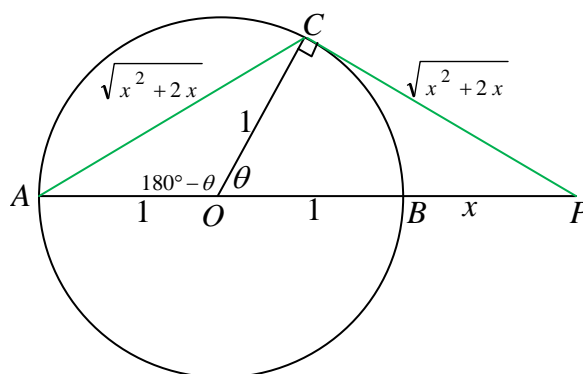
解：令半徑 $\overline{OA} = \overline{OB} = \overline{OC} = 1$ 、 $\overline{PB} = x$

$$\text{則 } \overline{AC} = \overline{PC} = \sqrt{x^2 + 2x}$$

$$\text{由餘弦定律：} \frac{1+1-(x^2+2x)}{2 \times 1 \times 1} = -\frac{1}{x+1}$$

$$\Rightarrow x^3 + 3x^2 - 4 = 0 \Rightarrow (x-1)(x+2)^2 = 0$$

$$\Rightarrow x=1 \text{ 或 } -2 \text{ (不合)} \text{，則 } \frac{\overline{AP}}{\overline{AB}} = \frac{1+1+1}{1+1} = \frac{3}{2}$$



I-8. 設 a_1, a_2, a_3, a_4, a_5 皆為正整數且滿足 $a_1 < a_2 < a_3 < a_4 < a_5$ 。

令 $A = \{a_1, a_2, a_3, a_4, a_5\}$ ， $B = \{a_1^2, a_2^2, a_3^2, a_4^2, a_5^2\}$ ，若 $A \cap B = \{a_3, a_4\}$ ， $a_3 + a_4 = 13$ 且 $A \cup B$ 中各數之和為 225，則 $a_5 = \underline{\hspace{2cm}}$ 。

【2017 TRML(第19屆)個人賽】

答： 10

解：因為 $A \cap B = \{a_3, a_4\}$ ，故 a_3, a_4 均為完全平方數

因為 $a_3 + a_4 = 13$ ，故 $a_3 = 4$ 、 $a_4 = 9$ ，則 $a_1 = 2$ 、 $a_2 = 3$ ，

則 $A = \{a_1 = 2, a_2 = 3, a_3 = 4, a_4 = 9, a_5\}$ ，

而 $B = \{a_1^2 = 4, a_2^2 = 9, a_3^2 = 16, a_4^2 = 81, a_5^2\}$

由 $A \cup B$ 中各數之和為 225，亦即 $2+3+4+9+a_5+16+81+a_5^2 = 225 \Rightarrow$ 則 $a_5 = 10$

I-9. 設 a, b 皆為正整數，滿足 $b^2 = 121(a+2017)$ ，則 $a+b$ 的最小值為 $\underline{\hspace{2cm}}$ 。

【2017 TRML(第19屆)個人賽】

答： 503

解： $b^2 = 121(a+2017)$ 為完全平方數，故 $a+2017$ 為完全平方數

當 a 最小為 8 時， $b^2 = 121 \times 2025 \Rightarrow b = 11 \times 45 = 495$

則 $a+b$ 的最小值為 $8+495=503$

I-10. 設多項式 $f_k(x) = x^k + k$ ($k=1, 2, 3, 4$)。

已知從這四個多項式中任取兩個或三個相異多項式的乘積，可得到 10 個多項式，若 $f(x)$ 為這 10 個多項式的和，則 $f(x)$ 除以 $x+1$ 的餘式為_____。

【2017 TRML(第 19 屆)個人賽】

答：61

解：由， $f(x) =$

$$\left\{ \begin{array}{l} (x+1)(x^2+2) \\ + (x+1)(x^3+3) \\ + (x+1)(x^4+4) \\ + (x^2+2)(x^3+3) \\ + (x^2+2)(x^4+4) \\ + (x^3+3)(x^4+4) \\ + (x+1)(x^2+2)(x^3+3) \\ + (x+1)(x^2+2)(x^4+4) \\ + (x+1)(x^3+3)(x^4+4) \\ + (x^2+2)(x^3+3)(x^4+4) \end{array} \right. , \text{ 所求 } f(-1) = \left\{ \begin{array}{l} (0)(3) \\ + (0)(2) \\ + (0)(5) \\ + (3)(2) \\ + (3)(5) \\ + (2)(5) \\ + (0)(3)(2) \\ + (0)(3)(5) \\ + (0)(2)(5) \\ + (3)(2)(5) \end{array} \right. = 61$$

I-11. 已知 $k > 0$ ，且三平面 $x-y+z=0$ 、 $2x-ky+5z=0$ 與 $kx+2y+3z=0$ 的交點不只一個，則在它們的交集上， $x^2+y^2+z^2-2x+4y+3z+4$ 的最小值為_____。

【2017 TRML(第 19 屆)個人賽】

答：-2

解： $\begin{cases} x-y+z=0 \\ 2x-ky+5z=0 \\ kx+2y+3z=0 \end{cases}$ 有無限多解，故 $\Delta = \begin{vmatrix} 1 & -1 & 1 \\ 2 & -k & 5 \\ k & 2 & 3 \end{vmatrix} = 0 \xrightarrow{k>0} k=8$

原式 $\begin{cases} x-y+z=0 \\ 2x-8y+5z=0 \\ 8x+2y+3z=0 \end{cases} \Rightarrow \begin{cases} x=t \\ y=-t \\ z=-2t \end{cases}$

故 $x^2+y^2+z^2-2x+4y+3z+4 = 6t^2 - 12t + 4 = 6(t-1)^2 - 2 \geq -2$

I-12. 設有 7 個機器戰警，其戰鬥力分別為：1，3，7，15，31，63，127。

每兩個戰警可合組成一個新的戰警，且新戰警仍可繼續與其他戰警組合；

假設每一次組合戰鬥力的變化規則如下：

『戰鬥力為 x 與 y 的兩個戰警，可合組成戰鬥力為 $x + y + xy$ 的新戰警』。

已知不論組合的次序如何，經過 6 次的重組後，

最後留下來的唯一戰警之戰鬥力都等於 k ，則 $\log_2(k+1)$ 之值為_____。

【2017 TRML(第 19 屆)個人賽】

答：28

解：已知 $(2^a - 1) + (2^b - 1) + (2^a - 1)(2^b - 1) = 2^{a+b} - 1$ ，而 $1 = 2^1 - 1$ ， $3 = 2^2 - 1$ ，

$$7 = 2^3 - 1, 15 = 2^4 - 1, 31 = 2^5 - 1, 63 = 2^6 - 1, 127 = 2^7 - 1$$

$$\text{則 } \log_2(k+1) = \log_2(2^{1+2+3+4+5+6+7} - 1 + 1) = 28$$