

106 年大學入學學力測驗數學試題

俞克斌老師編寫

第壹部分：選擇題 (佔 65 分)

一、單選題 (佔 35 分)

1. 已知某校老師玩過「寶可夢」的比率為 r_1 ，而學生玩過的比率為 r_2 ，其中 $r_1 \neq r_2$ 。由下列選項中的資訊，請選出可以判定全校師生玩過「寶可夢」的比率之選項：
 (1) 全校老師與學生比率 (2) 全校老師人數 (3) 全校學生人數
 (4) 全校師生人數 (5) 全校師生玩過「寶可夢」人數。 【106 學測】

答：(1)

解：設全校老師有 A 人，全校學生有 B 人，則全校師生玩過「寶可夢」的比率 $r = \frac{Ar_1 + Br_2}{A+B}$
 可知只要知道全校老師與學生比率 $\frac{A}{A+B}$ 、 $\frac{B}{A+B}$ ，即可判定全校師生玩過寶可夢比率

2. 某個手機程式，每次點擊螢幕上的數 a 後，螢幕上的數會變成 a^2 。
 當一開始時螢幕上的數 b 為正且連續點擊螢幕三次後，螢幕上的數接近 81^3 。
 試問實數 b 最接近下列哪一個選項？
 (1) 1.7 (2) 3 (3) 5.2 (4) 9 (5) 81。 【106 學測】

答：(3)

解：由題意知 $\left[\left(b^2 \right)^2 \right]^2 = 81^3 \Rightarrow b^8 = 3^{12} \Rightarrow b = 3^{\frac{12}{8}} = 3^{\frac{3}{2}} = 3\sqrt{3} \approx 5.196$

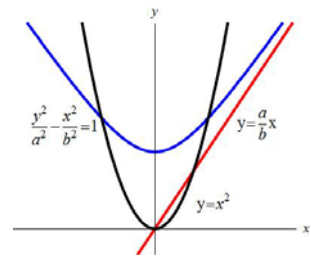
3. 設 $\Gamma: \frac{y^2}{a^2} - \frac{x^2}{b^2} = 1$ 為坐標平面上的一雙曲線，且其通過第一象限的漸近線為 l 。
 考慮動點 (t, t^2) ，從時間 $t=0$ 時出發，當 $t>0$ 時，請選出正確的選項：
 (1) 此動點不會碰到 Γ ，也不會碰到 l (2) 此動點會碰到 Γ ，但不會碰到 l
 (3) 此動點會碰到 l ，但不會碰到 Γ (4) 此動點會先碰到 Γ ，再碰到 l
 (5) 此動點會先碰到 l ，再碰到 Γ 。 【106 學測】

答：(5)

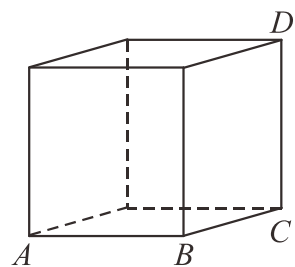
解：動點 (t, t^2) 在 $y = x^2$ 上，

$\frac{y^2}{a^2} - \frac{x^2}{b^2} = 1$ 的通過第一象限的漸近線為 $l: y = \frac{a}{b}x$

如圖，動點會先碰到 l ，再碰到 Γ ，故選(5)



4. 在右圖的正立方體上有兩質點分別自頂點 A 、 C 同時出發，各自以等速直線運動分別向頂點 B 、 D 前進，且在 1 秒後分別同時到達 B 、 D 。請選出這段時間兩質點距離關係的正確選項：
 (1) 兩質點的距離固定不變 (2) 兩質點的距離越來越小
 (3) 兩質點的距離越來越大 (4) 在 $\frac{1}{2}$ 秒時兩質點的距離最小



(5) 在 $\frac{1}{2}$ 秒時兩質點的距離最大。

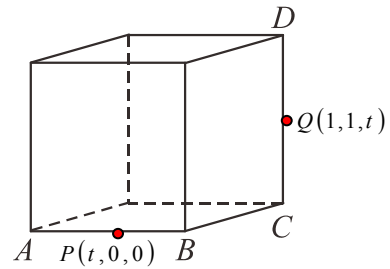
【106 學測】

答：(4)

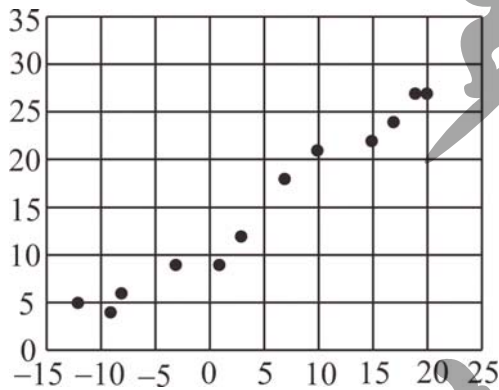
解： $P(t, 0, 0) \in \overline{AB}$ 、 $Q(1, 1, t) \in \overline{CD}$ ， $0 \leq t \leq 1$

$$\begin{aligned} \overline{PQ} &= \sqrt{(t-1)^2 + 1^2 + t^2} \\ &= \sqrt{2t^2 - 2t + 2} = \sqrt{2\left(t - \frac{1}{2}\right)^2 + \frac{3}{2}} \end{aligned}$$

當 $t = \frac{1}{2}$ 秒時，兩質點的距離 $\overline{PQ} = \frac{\sqrt{6}}{2}$ 最小



5. 下圖是某城市在 2016 年的各月最低溫（橫軸 x ）與最高溫（縱軸 y ）的散佈圖。



今以溫差（最高溫減最低溫）為橫軸且最高溫為縱軸重新繪製一散佈圖，試依此選出正確的選項：

- (1) 最高溫與溫差為正相關，且它們的相關性比最高溫與最低溫的相關性強
- (2) 最高溫與溫差為正相關，且它們的相關性比最高溫與最低溫的相關性弱
- (3) 最高溫與溫差為負相關，且它們的相關性比最高溫與最低溫的相關性強
- (4) 最高溫與溫差為負相關，且它們的相關性比最高溫與最低溫的相關性弱
- (5) 最高溫與溫差為零相關。

【106 學測】

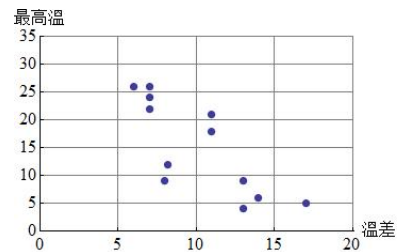
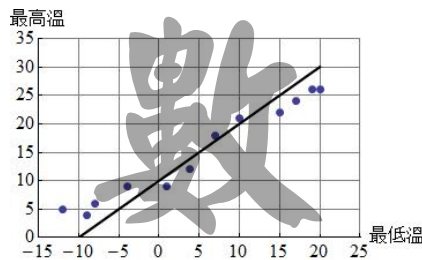
答：(4)

解：由上圖知，

最高溫與最低溫為正相關
(相關係數約為 0.98)

由下圖知，

最高溫與溫差為負相關
(相關係數約為 -0.77)



6. 試問有多少個實數 x 滿足 $\frac{\pi}{2} \leq x \leq \frac{3\pi}{2}$ 且 $\cos x^\circ \leq \cos x$?

- (1) 0 個 (2) 1 個 (3) 2 個 (4) 4 個 (5) 無窮多個。

【106 學測】

答：(1)

解： $\frac{\pi}{2} \approx 1.57 \dots \leq x \leq \frac{3\pi}{2} \approx 4.71 \dots$ ，故 x° 位於第一象限，故 $\cos x^\circ > 0$

$\frac{\pi}{2} \leq x \leq \frac{3\pi}{2}$ 時， $-1 \leq \cos x \leq 0$

故 $\frac{\pi}{2} \leq x \leq \frac{3\pi}{2}$ 時， $\cos x^\circ > \cos x$ 才成立，故 $\cos x^\circ \leq \cos x$ 無解

7. 小明想要安排從星期一到星期五共五天的午餐計畫。他的餐點共有四種選擇：牛肉麵、大滷麵、咖哩飯及排骨飯。小明想要依據下列兩原則來安排他的午餐：
- (甲) 每天只選一種餐點但這五天中每一種餐點至少各點一次
 (乙) 連續兩天的餐點不能重複且不連續兩天吃麵食
- 根據上述原則，小明這五天共有幾種不同的午餐計畫？
 (1) 52 (2) 60 (3) 68 (4) 76 (5) 84。

【106 學測】

答：(2)

解：牛肉麵 A 、大滷麵 B 、咖哩飯 C 及排骨飯 D

$$\left[\underbrace{C_1^2 \times \frac{3!}{2!}}_{AAB \text{ 或 } BBA} \times \underbrace{2!}_{\substack{A[C]A[D]B \\ \text{插空隙}}} \right] + \left[\underbrace{C_1^2 \times \frac{3!}{2!}}_{CCD \text{ 或 } DDC} \times \underbrace{C_2^4 \times 2!}_{\substack{C[A]C[B]D \\ \text{插空隙}}} - \underbrace{C_1^2 \times 2!}_{(CC)D \text{ 或 } (DD)C} \times \underbrace{C_2^3 \times 2!}_{\substack{CC[A]D[B] \\ \text{插空隙}}} \right]$$

$$= [12] + [72 - 24] = 60$$

二、多選題 (佔 30 分)

8. 設 m 、 n 為小於或等於 4 的相異正整數且 a 、 b 為非零實數。

已知函數 $f(x) = ax^m$ 與函數 $g(x) = bx^n$ 的圖形恰有 3 個相異交點，請選出可能的選項：

- (1) m 、 n 皆為偶數且 a 、 b 同號 (2) m 、 n 皆為偶數且 a 、 b 異號
 (3) m 、 n 皆為奇數且 a 、 b 同號 (4) m 、 n 皆為奇數且 a 、 b 異號
 (5) m 、 n 為一奇一偶。

【106 學測】

答：(1)(3)

解：不失一般性，可假設 $m > n$ 且 m 、 n 均為小於或等於 4 的正整數

$$f(x) = ax^m \text{ 與 } g(x) = bx^n \text{ 恰有 3 個相異交點} \Rightarrow \underbrace{x^n}_{\text{重根}} \underbrace{(ax^{m-n} - b)}_{\substack{\text{必為二次} \\ \text{且為相異實根}}} = 0$$

故 $m - n = 2$ 且 $\frac{b}{a} > 0 \Rightarrow$ (1) m 、 n 皆為偶數且 a 、 b 同號 (3) m 、 n 皆為奇數且 a 、 b 同號

9. 設 Γ 為坐標平面上的圓，點 $(0, 0)$ 在 Γ 的外部且點 $(2, 6)$ 在 Γ 的內部。

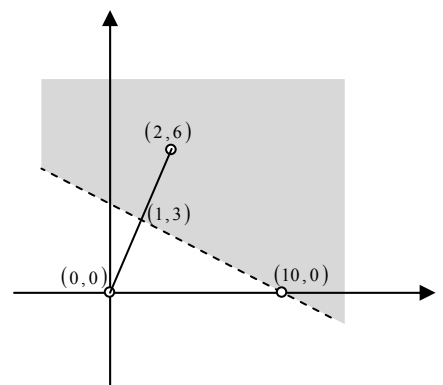
請選出正確的選項：

- (1) Γ 的圓心不可能在第二象限
 (2) Γ 的圓心可能在第三象限且此時 Γ 的半徑必定大於 10
 (3) Γ 的圓心可能在第一象限且此時 Γ 的半徑必定小於 10
 (4) Γ 的圓心可能在 x 軸上且此時圓心的 x 坐標必定小於 10
 (5) Γ 的圓心可能在第四象限且此時 Γ 的半徑必定大於 10。

【106 學測】

答：(5)

解：(0, 0) 與 (2, 6) 之中垂線方程式為 $x + 3y = 10$ ，
 因為 (0, 0) 在 Γ 外部，(2, 6) 在 Γ 內部，
 故圓心在 $x + 3y = 10$ 右側區域 (不包含直線本身)，
 如圖



- (1)錯誤：由圖知，圓心可能在第二象限
 (2)錯誤：由圖知，圓心不可能在第三象限
 (3)錯誤：反例： $(x-6)^2 + (y-15)^2 = 169$ ，此時半徑為 13
 (4)錯誤：如圖，若圓心在 x 軸上，則圓心之 x 座標必定大於 10
 (5)正確：若圓心在第四象限，此時半徑必定大於 $(10,0)$ 與 $(2,6)$ 之距離 (=10)

10. 坐標空間中有三直線 $L_1 : \frac{x-1}{2} = \frac{y+1}{2} = \frac{z}{1}$ ， $L_2 : \begin{cases} x-2y+2z=-4 \\ x+y-4z=5 \end{cases}$ ，

$L_3 : \begin{cases} x=-t \\ y=-2-t \\ z=4+4t \end{cases}$ ， t 為實數。請選出正確的選項：

- (1) L_1 與 L_2 的方向向量互相垂直 (2) L_1 與 L_3 的方向向量互相垂直
 (3)有一個平面同時包含 L_1 與 L_2 (4)有一個平面同時包含 L_1 與 L_3
 (5)有一個平面同時包含 L_2 與 L_3 。

【106 學測】

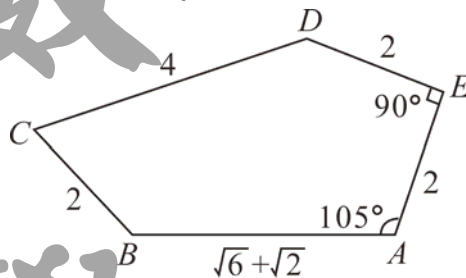
答：(2)(3)(4)

解： $L_1 : \begin{cases} x=1+2s \\ y=-1+2s \\ z=s \end{cases}$ 、 $L_2 : \begin{cases} x=2+2m \\ y=3+2m \\ z=m \end{cases}$ 、 $L_3 : \begin{cases} x=-t \\ y=-2-t \\ z=4+4t \end{cases}$

- (1)方向向量 $(2,2,1) \parallel (2,2,1)$ ， L_1 與 L_2 的方向向量互相平行
 (2)方向向量 $(2,2,1) \perp (-1,-1,4)$ ， L_1 與 L_3 的方向向量互相垂直
 (3) $(1,-1,0) \in L_1$ ，但 $(1,-1,0) \notin L_2$ ，表 $L_1 \parallel L_2 \Rightarrow$ 有一個平面同時包含 L_1 與 L_2
 (4) $\begin{cases} x=1+2s=-t \\ y=-1+2s=-2-t \\ z=s=4+4t \end{cases} \Rightarrow \begin{cases} s=0 \\ t=-1 \end{cases}$ ，表 L_1 與 L_3 相交 \Rightarrow 有一個平面同時包含 L_1 與 L_3
 (5) $\begin{cases} x=2+2m=-t \\ y=3+2m=-2-t \\ z=m=4+4t \end{cases}$ ，無解，表 L_2 與 L_3 歪斜 (不共平面)

11. 最近數學家發現一種新的可以無縫密鋪平面的凸五邊形 $ABCDE$ ，其示意圖如下。關於這五邊形，請選出正確的選項：

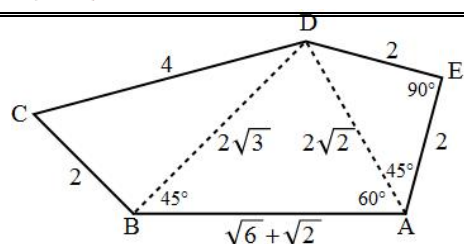
- (1) $\overline{AD} = 2\sqrt{2}$
 (2) $\angle DAB = 45^\circ$
 (3) $\overline{BD} = 2\sqrt{6}$
 (4) $\angle ABD = 45^\circ$
 (5) $\triangle BCD$ 的面積為 $2\sqrt{2}$ 。



【106 學測】

答：(1)(4)

- 解：(1)正確： $\triangle ADE$ 為直角三角形，故 $\overline{AD} = 2\sqrt{2}$
 (2)錯誤： $\angle DAE = 45^\circ$ ，故 $\angle DAB = 60^\circ$
 (3)錯誤：由餘弦定理知



$$\cos 60^\circ = \frac{(2\sqrt{2})^2 + (\sqrt{6} + \sqrt{2})^2 - \overline{BD}^2}{2(2\sqrt{2})(\sqrt{6} + \sqrt{2})}, \quad \overline{BD} = 2\sqrt{3}$$

(4) 正確：由正弦定理知 $\frac{2\sqrt{3}}{\sin 60^\circ} = \frac{2\sqrt{2}}{\sin \angle ABD} = \frac{\sqrt{6} + \sqrt{2}}{\sin \angle ADB} \Rightarrow \begin{cases} \angle ABD = 45^\circ \\ \angle ADB = 75^\circ \end{cases}$

(5) 錯誤： $\triangle BCD$ 為直角三角形，面積為 $2 \times 2\sqrt{3} \times \frac{1}{2} = 2\sqrt{3}$

12. 某班級 50 位學生，段考國文、英文、數學及格的人數分別為 45、39、34 人，且英文及格的學生國文也都及格。現假設數學和英文皆及格的有 x 人，數學及格但英文不及格的有 y 人。請選出正確的選項：

- (1) $x + y = 39$ (2) $y \leq 11$ (3) 三科中至少有一科不及格的學生有 $39 - x + y$ 人
 (4) 三科中至少有一科不及格的學生最少有 11 人
 (5) 三科中至少有一科不及格的學生最多有 27 人。

【106 學測】

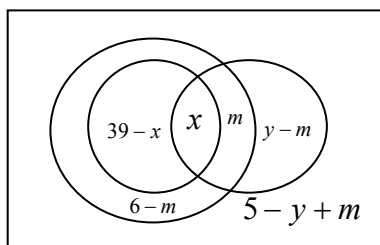
答：(2)(5)

解：依題意畫文氏圖如右：

則數學及格的人數 $x + y = 34$

三科均不及格者有 $5 - y + m$

$$\text{故 } \begin{cases} x \geq 0 \\ m \geq 0 \\ 39 - x \geq 0 \\ 6 - m \geq 0 \\ y - m \geq 0 \\ 5 - y + m \geq 0 \end{cases} \xrightarrow{y=34-x} \begin{cases} 0 \leq x \leq 39 \\ 0 \leq m \leq 6 \\ 29 \leq x + m \leq 34 \end{cases}$$



當 $m = 0 \Rightarrow 29 \leq x \leq 34$ ，當 $m = 6 \Rightarrow 23 \leq x \leq 28$ ，則 $23 \leq x \leq 34$ ，

故 $16 \leq 50 - x \leq 27$ ，三科中至少有一科不及格 ($50 - x$)：最少 16 人，最多 27 人

13. 空間中有一四面體 $ABCD$ ，假設 \overrightarrow{AD} 分別與 \overrightarrow{AB} 和 \overrightarrow{AC} 垂直，請選出正確的選項：

- (1) $\overrightarrow{DB} \cdot \overrightarrow{DC} = \overline{DA}^2 - \overrightarrow{AB} \cdot \overrightarrow{AC}$ (2) 若 $\angle BAC$ 是直角，則 $\angle BDC$ 是直角
 (3) 若 $\angle BAC$ 是銳角，則 $\angle BDC$ 是銳角 (4) 若 $\angle BAC$ 是鈍角，則 $\angle BDC$ 是鈍角
 (5) 若 $\overline{AB} < \overline{DA}$ 且 $\overline{AC} < \overline{DA}$ ，則 $\angle BDC$ 是銳角。

【106 學測】

答：(3)(5)

解：(1) 錯誤：應為 $\overrightarrow{DB} \cdot \overrightarrow{DC} = (\overrightarrow{AB} - \overrightarrow{AD}) \cdot (\overrightarrow{AC} - \overrightarrow{AD}) = \overline{DA}^2 + \overrightarrow{AB} \cdot \overrightarrow{AC}$

(2) 錯誤： $\angle BAC$ 為直角， $\overrightarrow{AB} \cdot \overrightarrow{AC} = 0$ ，

代入(1)得 $\overrightarrow{DB} \cdot \overrightarrow{DC} = \overline{DA}^2 > 0 \Rightarrow \angle BDC$ 為銳角

(3) 正確： $\angle BAC$ 為銳角， $\overrightarrow{AB} \cdot \overrightarrow{AC} > 0$ ，

代入(1)得 $\overrightarrow{DB} \cdot \overrightarrow{DC} = \overline{DA}^2 + \overrightarrow{AB} \cdot \overrightarrow{AC} > 0 \Rightarrow \angle BDC$ 為銳角

(4) 錯誤： $\angle BAC$ 為鈍角， $\overrightarrow{AB} \cdot \overrightarrow{AC} < 0$ ，

代入(1)得 $\overrightarrow{DB} \cdot \overrightarrow{DC} = \overline{DA}^2 + \overrightarrow{AB} \cdot \overrightarrow{AC}$ 無法確定正負，無法確定 $\angle BDC$

(5) 正確： $\overline{AB} < \overline{DA}$ 且 $\overline{AC} < \overline{DA}$ ，則 $\overrightarrow{AB} \cdot \overrightarrow{AC} = |\overrightarrow{AB}| |\overrightarrow{AC}| \cos \theta < \overline{DA}^2$

代入(1)得 $\overrightarrow{DB} \cdot \overrightarrow{DC} = \overrightarrow{DA}^2 + \overrightarrow{AB} \cdot \overrightarrow{AC} > 0 \Rightarrow \angle BDC$ 為銳角

第貳部分：選填題 (佔 35 分)

A. 遞迴數列 $\langle a_n \rangle$ 滿足 $a_n = a_{n-1} + f(n-2)$ ，其中 $n \geq 2$ 且 $f(x)$ 為二次多項式。

若 $a_1 = 1, a_2 = 2, a_3 = 5, a_4 = 12$ ，則 $a_5 =$ _____。

【106 學測】

答：25

解：因為 $f(x)$ 為二次多項式，可令 $f(x) = ax^2 + bx + c$

$$\text{由題意知} \begin{cases} a_2 = a_1 + f(0) \\ a_3 = a_2 + f(1) \\ a_4 = a_3 + f(2) \\ a_5 = a_4 + f(3) \end{cases} \Rightarrow \begin{cases} 1 = c \\ 3 = a + b + c \\ 7 = 4a + 2b + c \\ a_5 - 12 = 9a + 3b + c \end{cases} \Rightarrow \begin{cases} c = 1 \\ b = 1 \\ a = 1 \\ a_5 = 25 \end{cases}$$

B. 在坐標平面上， $\triangle ABC$ 內有一點 P 滿足 $\overrightarrow{AP} = \left(\frac{4}{3}, \frac{5}{6}\right)$ 及 $\overrightarrow{AP} = \frac{1}{2}\overrightarrow{AB} + \frac{1}{5}\overrightarrow{AC}$ 。

若 A, P 連線交 BC 於 M ，則 $\overrightarrow{AM} =$ _____。(化為最簡分數)

【106 學測】

答： $\left(\frac{40}{21}, \frac{25}{21}\right)$

解： $\overrightarrow{AP} = \frac{7}{10}\left(\frac{5}{7}\overrightarrow{AB} + \frac{2}{7}\overrightarrow{AC}\right) = \frac{7}{10}\overrightarrow{AM}$ ，

$$\text{故 } \overrightarrow{AM} = \frac{10}{7}\overrightarrow{AP} = \frac{10}{7}\left(\frac{4}{3}, \frac{5}{6}\right) = \left(\frac{40}{21}, \frac{25}{21}\right)$$

C. 若 a 為正整數且方程式 $5x^3 + (a+4)x^2 + ax + 1 = 0$ 的根都是有理根，則 $a =$ _____。

【106 學測】

答：7

解： a 為正整數，則無正根。

由牛頓定理，知可能的有理根為 $-1, -\frac{1}{5}$

由韋達定理，知三根之積為 $-\frac{1}{5}$ ，故三根必為 $-1, -1, -\frac{1}{5}$ ，

$$\text{則三根之和 } -\frac{11}{5} = -\frac{a+4}{5} \Rightarrow a = 7$$

D. 設 a_1, a_2, \dots, a_9 為等差數列且 k 為實數。若方程式有 $\begin{cases} a_1x - a_2y + 2a_3z = k + 1 \\ a_4x - a_5y + 2a_6z = -k - 5 \\ a_7x - a_8y + 2a_9z = k + 9 \end{cases}$ 有解，

則 $k =$ _____。

【106 學測】

答：-5

解： $\frac{a_k + a_{k+6}}{2} = a_{k+3} \rightarrow$ 原式： $(k+1) + (k+9) = 2(-k-5) \Rightarrow k = -5$

E. 設 a, b, x 皆為正整數且滿足 $a \leq x \leq b$ 及 $b - a = 3$ 。若用內插法從 $\log a, \log b$

$$\text{求得 } \log x \text{ 的近似值為 } \log x \approx \frac{1}{3} \log a + \frac{2}{3} \log b = \frac{1}{3} (1 + 2 \log 3 - \log 2) + \frac{2}{3} (4 \log 2 + \log 3),$$

則 x 的值為_____。

【106 學測】

答：47

解： $\log x \approx \frac{1}{3} \log a + \frac{2}{3} \log b = \frac{1}{3} (\log 45) + \frac{2}{3} (\log 48)$

$$\xrightarrow{b-a=3} a = 45, b = 48 \Rightarrow x = \frac{a+2b}{3} = 47$$



F. 一隻青蛙位於坐標平面的原點，每步隨機朝上、下、左、右跳一單位長，總共跳了四步。青蛙跳了四步後恰回到原點的機率為_____。(化為最簡分數) 【106 學測】

答： $\frac{9}{64}$

$$\underbrace{4!}_{\text{上下左右}} + \underbrace{\frac{4!}{2!2!}}_{\text{左左右右}} + \underbrace{\frac{4!}{2!2!}}_{\text{上上下下}}$$

解： $\frac{4! + \frac{4!}{2!2!} + \frac{4!}{2!2!}}{4^4} = \frac{36}{256} = \frac{9}{64}$

G. 地面上甲、乙兩人從同一地點同時開始移動。甲以每秒 4 公尺向東等速移動，乙以每秒 3 公尺向北等速移動。在移動不久之後，他們互望的視線被一圓柱體建築物阻擋了 6 秒後才又相見。此圓柱體建築物底圓的直徑為_____公尺。 【106 學測】

答：14.4

解：設甲、乙均從原點 O 出發，

t 秒後甲位於 $P(4t, 0)$ 、乙位於 $Q(0, 3t)$ ，

此時兩人互望的視線開始被圓柱體建築物阻擋，

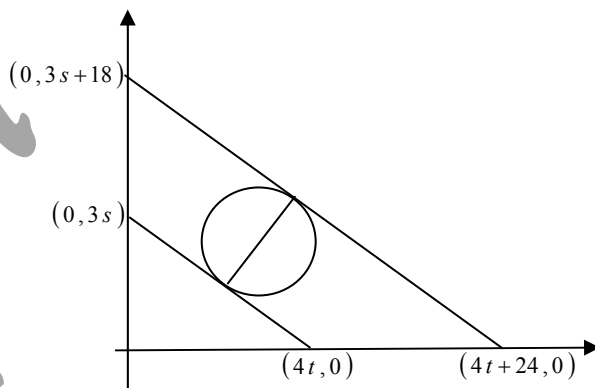
$$\text{互望視線 } L_1 : \frac{x}{4t} + \frac{y}{3t} = 1 \Rightarrow 3x + 4y = 12t$$

再 6 秒後甲位於 $R(4t+24, 0)$ 、

乙位於 $S(0, 3t+18)$ 才又相見，

$$\begin{aligned} \text{互望視線 } L_2 : \frac{x}{4t+24} + \frac{y}{3t+18} &= 1 \\ \Rightarrow 3x + 4y &= 12t + 72 \end{aligned}$$

則由右圖知所求之圓的直徑 $= d(L_1, L_2) = \frac{72}{5} = 14.4$



數學