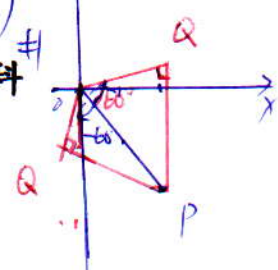


$\vec{OP} = \vec{OQ} = 2 = (2-3\lambda)(\cos 60^\circ + \lambda \sin 60^\circ) \times \frac{1}{2} = \left(\frac{2+3\sqrt{3}}{4} + \frac{2\sqrt{3}-3}{4}i \right)$
 $\vec{OP} = (2, -3) \quad (2-3\lambda)(\cos(-60^\circ) + \lambda \sin(-60^\circ)) \times \frac{1}{2} = \left(\frac{2-3\sqrt{3}}{4} + \frac{-2\sqrt{3}-3}{4}i \right)$



國立基隆女中 101 學年度第一學期第一次教師甄試數學科

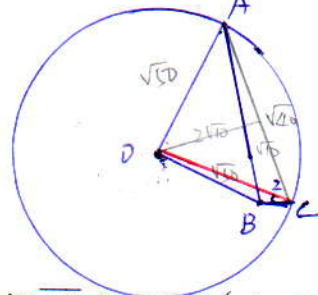
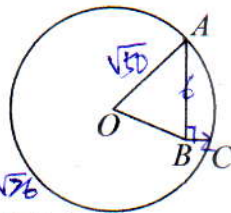
一、填充題：(請將答案清楚標示於答案紙上)(每格 7 分)

1. 如下圖，A, C 在以 O 為圓心，半徑為 $\sqrt{50}$ 的圓周上，若 $\angle ABC = 90^\circ$ ， $\overline{AB} = 6$ ， $\overline{BC} = 2$ ，

則 $\overline{OB} = \sqrt{76}$ 。

$\cos \angle 2 = \frac{1}{\sqrt{5}} \Rightarrow \sin \angle 2 = \frac{2}{\sqrt{5}}$
 $\cos(\angle 1 + \angle 2) = \frac{1}{\sqrt{6}} \Rightarrow \sin(\angle 1 + \angle 2) = \frac{3}{\sqrt{6}}$

$\cos \angle 1 = \frac{1}{\sqrt{6}} + \frac{6}{\sqrt{6}} = \frac{7}{\sqrt{6}} = \frac{4+50-28^2}{2 \times 2 \times \sqrt{50}} \Rightarrow \overline{OB} = \sqrt{76}$



2. 直線 L 與拋物線 $(x+3)^2 = -4(y-1)$ 相交於相異兩點 A, B，已知 \overline{AB} 之中點為 $(-1, -12)$ ，且

F 為拋物線之焦點，則 $\overline{AF} + \overline{BF}$ 之值為 28。

3. 設 $A = \begin{bmatrix} -1 & 1 \\ 0 & -1 \end{bmatrix}$ ，試求 $A^{20} = \begin{pmatrix} 1 & -20 \\ 0 & 1 \end{pmatrix}$ 。 $A = \begin{pmatrix} -1 & 0 \\ 0 & -1 \end{pmatrix} + \begin{pmatrix} 0 & 1 \\ 0 & 0 \end{pmatrix} \Rightarrow A^{20} = C_0^{20}(-I)^{20} + C_1^{20} \begin{pmatrix} 0 & 1 \\ 0 & 0 \end{pmatrix} = \begin{pmatrix} 1 & -20 \\ 0 & 1 \end{pmatrix}$

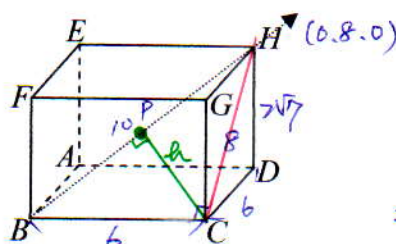
4. $a \in \mathbb{R}$ ，過 $P(a, 2)$ 作 $y = f(x) = x^3 - 3x^2 + 2$ 的切線，若所作的切線恰有一條，試求 a 的範圍。 $\frac{x^3 - 3x^2}{x - a} = 3x^2 - 6x \Rightarrow x(2x^2 - 3(a+1)x + 6a) = 0$ 11 字首一解 $9(a+1)^2 - 24 \times 6 \times a < 0$

設切線 (大) $x^3 - 3x^2 + 2$

在坐標平面上，已知直角三角形 OPQ 中， $\angle OQP$ 為直角， $O(0,0), P(2,-3)$ ，且 $\frac{1}{3} < a < 3$
 $\overline{OP} : \overline{OQ} = 2 : 1$ ，則 O 點坐標為 $\left(\frac{2+3\sqrt{3}}{4}, \frac{2\sqrt{3}-3}{4} \right)$ 或 $\left(\frac{2-3\sqrt{3}}{4}, \frac{-2\sqrt{3}-3}{4} \right)$

6. 若某變換為：將平面上的圖形以 x 軸為基準線作 2 倍的縱向伸縮，再依 y 軸方向作 3 倍推移，再對於直線 $x + y = 0$ 作鏡射，再以原點為中心旋轉 270° ，則此變換矩陣為 _____。

7. 如圖，有一長方體 ABCD-EFGH，已知 $\overline{AB} = \overline{AD} = 6$ ， $\overline{AE} = 2\sqrt{7}$ ，若將此長方體置於坐標空間中，B 點為原點 $(0,0,0)$ ，H 點為 y 軸正向上一點，則 C 點在直線 \overline{BH} 上的投影點坐標為 $\left(0, \frac{18}{5}, 0 \right)$ 。



$10 \times h = 6 \times 8 \Rightarrow h = \frac{24}{5}$
 $\therefore \overline{BC} = h = 6 \times \frac{24}{5} = 1 \times \frac{4}{5} = 5 = 4$
 $\therefore \overline{BP} = 3 \times \frac{6}{5} = \frac{18}{5}$
 $\Rightarrow P \left(0, \frac{18}{5}, 0 \right)$

8. 給定一個邊長為 2 的正八面體，某個平面與此正八面體一雙平行表面平行，且將此正八面體分成兩個全等的立體。設這個平面截此正八面體所形成多邊形的截面面積為 $\frac{a\sqrt{b}}{c}$ ，其中 a, b, c 均為正整數，a 與 c 互質，b 不能被任何質數的平方整除，則 $a+b+c = 8$ 。

$$p = -\frac{1}{3}x + 10 \Rightarrow x = 30 - 3p \quad 6z + 6 = 48 - \frac{2}{3}p \Rightarrow 6z = 42 - \frac{2}{3}p \Rightarrow z = 7 - \frac{2}{9}p$$

$$z = \frac{1}{2}y - 1 \Rightarrow y = 2z + 2$$

$$18x \quad y = 30 + \frac{2}{3}x \Rightarrow 6z + 6 = 30 + \frac{2}{3}(30 - 3p)$$

$$\therefore (a, b) = (7, -\frac{3}{10})$$

9. 設兩組資料 x, y 。若 y 對 x 的迴歸直線為 $y = 30 + \frac{3}{5}x$ ，且 x 的平均數為 60。另兩組資料

p, q ，且 $p = -\frac{1}{3}x + 10, q = \frac{1}{6}y - 1$ ，若 q 對 p 的迴歸直線為 $q = a + bp$ ，則 $(a, b) = (7, -\frac{3}{10})$

10. 連續擲一公正骰子 30 次，請問 6 點出現 5 次的機率最大。 $30 \times \frac{1}{6} = 5$ (期望值)

11. 一袋中有紅球、白球共 10 個，則紅球恰有 5 個時由袋中取出兩球皆為同色的機率最小。
 設紅球 n 個 $C_2^n = C_2^{10-n} \Rightarrow n^2 - n = n^2 - 19n + 90 \Rightarrow 18n = 90 \Rightarrow n = 5$

12. 設 $f(x) = \frac{2^x - 2^{-x}}{2^x + 2^{-x}}$ 若 $f(m) = \frac{1}{3}, f(n) = \frac{1}{2}$ ，試求 $f(m+n) = \frac{5}{7}$

$$f(x) = \frac{2^x - 2^{-x}}{2^x + 2^{-x}} \Rightarrow 2^x = \frac{1+x}{1-x} \quad f(m+n) = \frac{2^{m+n} - 2^{-(m+n)}}{2^{m+n} + 2^{-(m+n)}} = \frac{6-1}{6+1} = \frac{5}{7}$$

13. 設數列 $\langle a_n \rangle, \langle b_n \rangle$ 滿足 $a_0 + b_0 = 2$ ，且對每一正整數 n ，恆有 $a_n = \sqrt{3}a_{n-1} - b_{n-1}$ 及

$$b_n = a_{n-1} + \sqrt{3}b_{n-1}, \text{ 則 } a_{18} + b_{18} = -2^{19}$$

$$\begin{pmatrix} a_n \\ b_n \end{pmatrix} = \begin{pmatrix} \sqrt{3} & -1 \\ 1 & \sqrt{3} \end{pmatrix}^n \begin{pmatrix} a_0 \\ b_0 \end{pmatrix} \quad \text{設 } Z = \begin{pmatrix} \cos 30^\circ & -\sin 30^\circ \\ \sin 30^\circ & \cos 30^\circ \end{pmatrix}$$

$$(ZA)^n = \begin{pmatrix} \cos 30^\circ n & -\sin 30^\circ n \\ \sin 30^\circ n & \cos 30^\circ n \end{pmatrix}$$

二、計算題：

1. 設 n 為自然數，試利用數學歸納法證明： $n^4 + n^2 + 2n$ 必為某自然數的倍數。

(1) 此數最大為 4 (2分) (2) 利用數學歸納法證明(1)的答案 (7分)

Sol: $n=1, 1+1+2=4 \times 1$ — ①

$n=2, 2^4+2^2+2=2^2(2^2+2)=4 \times 6$

∴ 推測 $n^4 + n^2 + 2n$ 為 4 的倍數 又 $n^4 + n^2 + 2n = n(n^3 + n^2 + 2)$

設 $n=k$ 原關係成立，即 $k(k^3 + k^2 + 2) = 4p$

則 $n=k+1$ 時

$$\begin{aligned} (k+1)^4 + (k+1)^2 + 2(k+1) &= (k+1)[(k+1)^3 + (k+1) + 2] = (k+1)(k+2)[(k+1)^2 - (k+1) + 2] \\ &= (k+1)(k+2)[k^2 + 2k + 1 - k - 1 + 2] = (k+1)(k+2)[k^2 + k + 2] \\ &= (k+1)(k+2)[(k^2 - k + 2) + 2k] = (k+1)k[(k^2 - k + 2) + 2k] + 2[k^2 + k + 2] \\ &= 4p + 2k^2(k+1) + 2(k+1)[k^2 + 2k + 2] = 4p + 2(k+1)[k^2 + k^2 + 2k + 2] \\ &= 4[p + (k+1)(k^2 + k + 1)] \text{ 為 4 的倍數 } \therefore n \in \mathbb{N} \text{ 由數學歸納法得證} \end{aligned}$$

數學科答案：

一、填充題：(每格 7 分)

1. $\sqrt{26}$ 2. 28 3. $\begin{bmatrix} 1 & -20 \\ 0 & 1 \end{bmatrix}$ 4. $\frac{1}{3} < a < 3$ 5. $\left(\frac{2+3\sqrt{3}}{4}, \frac{-3+2\sqrt{3}}{4}\right)$ or $\left(\frac{2-3\sqrt{3}}{4}, \frac{-3-2\sqrt{3}}{4}\right)$ $n^4 + n^2 + 2n$ 恆為 4 的倍數
6. $\begin{bmatrix} -1 & 0 \\ 3 & 2 \end{bmatrix}$ 7. $\left(0, \frac{18}{5}, 0\right)$ 8. 8 9. $\left(7, -\frac{3}{10}\right)$ 10. 5 次 11. 5 12. $\frac{5}{7}$ 13. -2^{19}

二、計算題：

1. (1) 4 (2 分)
 (2) 略 (7 分)