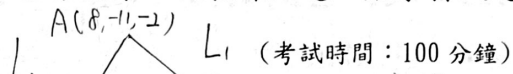


臺北市立景美女子高級中學 113 學年度第 1 次教師甄選 數學科試題

2024.7.9 (二) Ru

[2]



一、填充題：(每題 6 分，共 72 分)

注意：所有答案請化簡為最簡分數或最簡根式

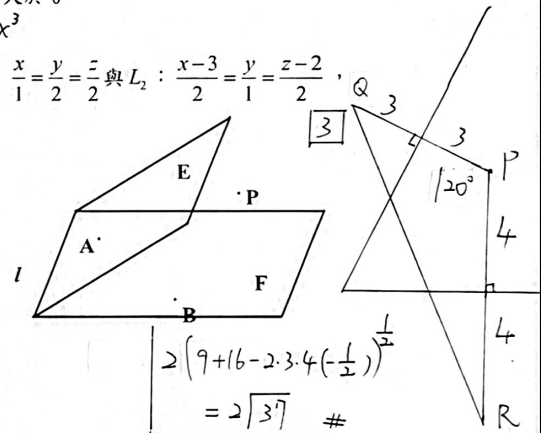
1、下列有關函數的敘述，哪些選項正確？Ans: BD。(全對才給分)

- (A) 函數  $g(x) = |x|$  在  $x=0$  有極值，且  $g'(0)=0$
- (B) 設  $f(x)$  為多項式函數，若  $f'(a)=0$ ，則  $f(x)$  在點  $(a, f(a))$  必有水平切線
- (C) 設  $f(x)$  為多項式函數，若  $f'(a)=0$ ，且  $f(x)$  在  $x=a$  處有極小值，則  $f''(a) > 0$
- (D) 設  $f(x)$  為多項式函數，若對所有實數  $x$ ， $f(x) \geq 0$  恆成立，則  $f(x)$  的次數必為偶數
- (E) 設  $f(x)$  為一次以上的多項式函數，若  $f(x)$  為嚴格遞增函數，則  $f'(x)$  恆大於 0

(C)  $f(x) = x^4$  (E)  $f(x) = x^3$

2、空間中有一  $\triangle ABC$ ，其中  $A(8, -11, -2)$ ，若  $\angle B$  與  $\angle C$  的內角平分線分別為  $L_1: \frac{x-3}{2} = \frac{y}{1} = \frac{z-2}{2}$  與  $L_2: \frac{x}{1} = \frac{y}{2} = \frac{z}{2}$ ，

則直線  $BC$  的對稱比例式                     。  
 $\frac{x+2}{3} = \frac{y-3}{3} = \frac{z+6}{4}$



3、如右圖，空間中有兩個半平面 E 與 F，且 E 與 F 之交線為  $l$ ，假設 E 與 F 的二面角為  $60^\circ$ ，A、B 兩動點分別落在 E、F 兩個平面上且 A、B 皆不在  $l$  上，又空間中一點 P 到 E 和 F 的距離依序為 3 和 4，則  $\triangle PAB$  周長的最小值為                     。

4、已知函數  $f(x) = \sqrt{x^4 - x^2 - 6x + 10} - \sqrt{x^4 - 3x^2 + 4}$ ，則  $f(x)$  的最大值為                     

[4]  $\sqrt{(x-3)^2 + (x^2-1)^2} - \sqrt{(x-0)^2 + (x^2-2)^2} = \overline{PA} - \overline{PB} \leq \overline{AB} = \sqrt{10}$

令  $P(x, x^2)$ ,  $A(3, 1)$ ,  $B(0, 2)$

$x-1$	1	-1	3	-3
$x$	2	0	4	-2
$k$	$\frac{1}{7}$	-1	$\frac{1}{7}$	-1

5、已知  $k$  為有理數，且使得方程式  $kx^2 + (k-1)x + (k+1) = 0$  的所有解都是整數，則  $k$  值為                     。(全對才給分)

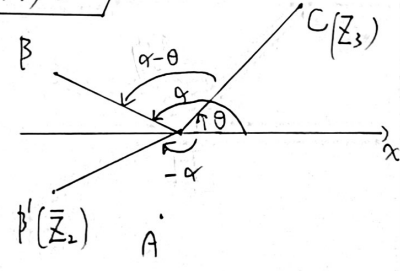
[5]  $\deg f(x) \leq 1$   $\left| \begin{array}{l} \deg f(x) = 2 \\ \alpha + \beta = \frac{1-k}{k} \\ \alpha\beta = \frac{k+1}{k} \end{array} \right. \Rightarrow \frac{k-1}{k} \in \mathbb{Z}, \frac{k+1}{k} \in \mathbb{Z} \Rightarrow \begin{cases} (x-1) | x^2+2 \\ (x-1) | x^2-x \end{cases} \Rightarrow \begin{cases} (x-1) | (x+2) \\ (x-1) | (x-1) \end{cases} \Rightarrow (x-1) | 3 \Rightarrow k = \frac{1}{7} \text{ or } -1 \text{ or } 0$

6、已知實數  $x, y$  滿足  $\begin{cases} x^2y \geq 243 \\ x \geq 1, y \geq 1 \end{cases}$ ，當  $(x, y) = (p, q)$  時， $x^3y^4$  有最小值  $m$ ，則  $\frac{m}{pq}$  的值為                     

[6]  $3^3 = (3^4)^{\frac{1}{4}} (3^5)^{\frac{3}{4}} \leq (xy^2)^{\frac{1}{4}} (xy)^{\frac{3}{4}} = (x^3y^4)^{\frac{1}{4}} \Rightarrow m = 3^9$   $\Rightarrow \frac{m}{pq} = 3^9 = 2187$

7、複數  $Z_1$  在複數平面上為 A 點，複數  $Z_2$  在複數平面上為 B 點，複數  $Z_3$  在複數平面上為 C 點，若  $|Z_1| = \sqrt{2}$ 、 $|Z_2| = \sqrt{5}$ 、 $|Z_3| = 3$  且  $\triangle ABC$  的重心為原點，則  $\overline{Z_2} \cdot Z_3$  的實部為                     。

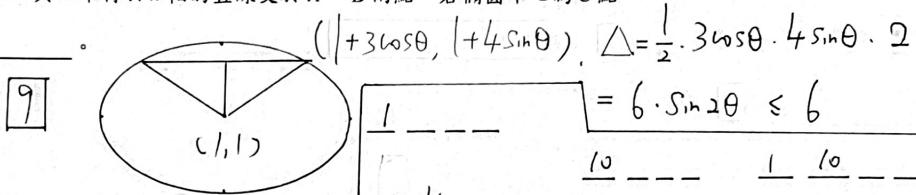
[7]  $\vec{OA} + \vec{OB} + \vec{OC} = \vec{0} \Rightarrow \vec{OB} \cdot \vec{OC} = -2$   
 $\Rightarrow 5 + 9 + 2 \vec{OB} \cdot \vec{OC} = 2$   
 $\text{Re}(\overline{Z_2} \cdot Z_3) = |\vec{OB}| |\vec{OC}| \cos(-\alpha + \theta) = \vec{OB} \cdot \vec{OC} = -2$



8.  $(1+2x+3x^2+4x^3+\dots+100x^{99})^4$  的展開式中  $x^4$  的係數為 330

$$\begin{array}{r}
 4 \ 0 \ 0 \ 0 \\
 3 \ 1 \ 0 \ 0 \\
 2 \ 2 \ 0 \ 0 \\
 2 \ 1 \ 1 \ 0 \\
 1 \ 1 \ 1 \ 1
 \end{array}
 \rightarrow
 \begin{array}{l}
 5 \frac{4!}{3!} = 20 \\
 4 \cdot 2 \cdot \frac{4!}{2!} = 96 \\
 3 \cdot 3 \cdot \frac{4!}{2! \cdot 2!} = 54 \\
 3 \cdot 2 \cdot 2 \cdot \frac{4!}{2!} = 144 \\
 2 \cdot 2 \cdot 2 \cdot 2 = 16
 \end{array}
 \left. \vphantom{\begin{array}{l} 5 \\ 4 \\ 3 \\ 3 \\ 2 \end{array}} \right\} \neq 330$$

9. 已知橢圓  $\Gamma: \begin{cases} x=1+3\cos\theta \\ y=1+4\sin\theta \end{cases}, \theta \in R$  與一平行於  $x$  軸的直線交於  $A, B$  兩點, 若橢圓中心為  $C$  點, 則  $\triangle ABC$  面積的最大值為 9.



10. 各位數字總和為 19 的四位數有 615 個

$$\begin{aligned}
 & 1 \overline{) 19} \quad 1 \overline{) 10} \quad 1 \overline{) 10} \\
 & = C_3^{21} - C_3^{12} - C_3^{11} \cdot 3 = 1330 - 220 - 495 = 615
 \end{aligned}$$

11. 已知實係數方程式  $x^4 - 3x^3 - 6x^2 + ax - 24 = 0$  有一個三重根, 則  $a$  值為 28

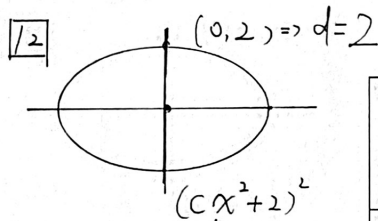
設 4 根:  $\alpha, \alpha, \alpha, \beta$

$$\begin{cases} 3\alpha + \beta = 3 \\ 3\alpha\beta + 3\alpha^2 = -6 \Rightarrow \alpha(3-3\alpha+\alpha) = -2 \\ \alpha^3\beta = -24 \end{cases}$$

12. 若橢圓  $\frac{x^2}{9} + \frac{y^2}{4} = 1$  和開口向下的拋物線  $y = cx^2 + d$  交於相異三點, 則  $c$  的範圍為  $c < -\frac{1}{9}$

$$\begin{aligned}
 & \alpha \quad \beta \quad \alpha^3\beta \\
 & \boxed{2 \quad -3} \rightarrow -24 \quad \text{ok} \\
 & -\frac{1}{2} \quad \frac{9}{2} \quad (\text{不合}) \\
 & \Rightarrow a = -(\alpha^3 + 3\alpha^2\beta) \\
 & = -(8 - 36) = 28
 \end{aligned}$$

一、填充題：72 分(每題 6 分)



$$4x^2 + 9(c^2x^4 + 4cx^2 + 4) = 36$$

$$\Rightarrow 9c^2x^4 + (9 \cdot 4c + 4)x^2 = 0$$

$$\Rightarrow x^2(9c^2x^2 + 9 \cdot 4c + 4) = 0$$

$$\Rightarrow x^2 = \frac{-4(9c+1)}{9c^2} > 0$$

$$\Rightarrow c < -\frac{1}{9}$$

1	BD	2	$\frac{x+12}{3} = \frac{y-3}{3} = \frac{z+6}{4}$
3	$2\sqrt{37}$	4	$\sqrt{10}$
5	0 或 $\frac{1}{7}$ 或 -1	6	2187
7	-6	8	330
9	6	10	615
11	28	12	$c < -\frac{1}{9}$